

September 1998 Mathematics II - Answers

1. വൃത്തസ്തുപികയുടെ ആരം =  $r$

$$\text{ഉന്നതി} = h$$

$$\text{പാർശ്വാനതി, } l = \sqrt{h^2 + r^2}$$

$$\text{വക്രതല വിസ്തീർണ്ണം} = \Pi r l$$

$$= \Pi r \sqrt{h^2 + r^2}$$

2. ഓരോന്നായി പരിശോധിച്ചാൽ

50 - 59

$$\text{മധ്യം} = \frac{\text{ഉച്ചപരിധി} + \text{നീചപരിധി}}{2}$$

$$= \frac{59 + 50}{2}$$

$$= 54.5$$

51 - 60

$$\text{മധ്യം} = \frac{\text{ഉച്ചപരിധി} + \text{നീചപരിധി}}{2}$$

$$= \frac{60 + 51}{2}$$

$$= 55.5$$

50 - 60

$$\text{മധ്യം} = \frac{\text{ഉച്ചപരിധി} + \text{നീചപരിധി}}{2}$$

BACK

$$= \frac{50 + 60}{2}$$

$$= 55$$

$$\underline{49 - 60}$$

മധ്യരേഖ =  $\frac{\text{ഉച്ചപരിധി} + \text{നീചപരിധി}}{2}$

$$= \frac{60 + 49}{2}$$

$$= 54.5$$

∴ ശരിയായ ഉത്തരം = 50 - 60

3.

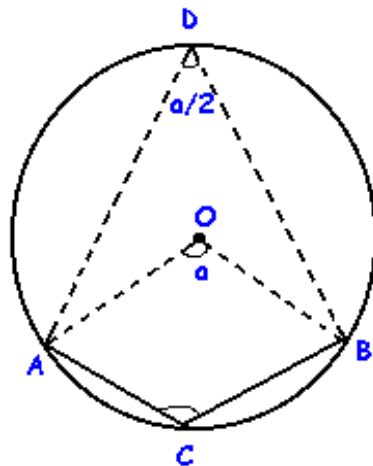
$$\frac{\text{Cos A}}{\text{Sin A}} = \text{Cot A}$$

≠ Tan A.

BACK

∴ ശരിയായ ഉത്തരം:  $\frac{\text{Cos A}}{\text{Sin A}}$

4. a ഡിഗ്രി അളവുള്ള ചാപം, ചാപം ACD ആണെന്നിരിക്കട്ടെ. അതായത്  $\angle AOB = a^\circ$



BACK

ചാപം ACB യിൽ അന്തർലേഖനം ചെയ്തിരിക്കുന്ന കോൺ. =  $\angle ACB$

ACBD ഒരു ചക്രിയ ചതുർഭുജമാണ്.

$$\angle ACB + \angle ADB = 180$$

$$\therefore \angle ACB = 180 - \angle ADB$$

$$\angle ADB = \frac{1}{2} \angle AOB$$

$$= \frac{a}{2}$$

$$\therefore \angle ACB = 180 - \frac{a}{2}$$

$\therefore a$  ഡിഗ്രിയുള്ള ചാപത്തിൽ അന്തർലേഖനം ചെയ്തിരിക്കുന്ന കോണിന്റെ അളവ് =  $180 - (a/2)$ .

5. മരിച്ചവരുടെ എണ്ണം = D

വർഷമധ്യത്തിലെ ജനസംഖ്യ = M

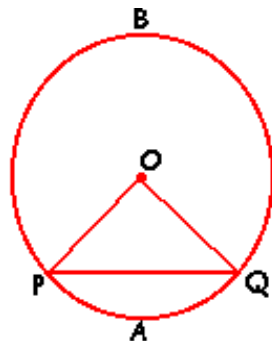
$$\text{CDR} = \frac{\text{മരിച്ചവരുടെ എണ്ണം}}{\text{വർഷമധ്യത്തിലെ ജനസംഖ്യ}} \times 1000$$

$$= D / M \times 1000$$

BACK

$\therefore$  ശരിയായ ഉത്തരം:  $(D / M) \times 1000$

6. ചിത്രം നോക്കുക



$$\angle OPQ = 30^\circ \quad \therefore \angle OQP = 30^\circ$$

BACK

BACK

$$\begin{aligned}\angle POQ &= 180 - (\angle OPQ + \angle OQP) \\ &= 180 - (30 + 30) \\ &= 180 - 60 \\ &= 120^\circ\end{aligned}$$

$$\therefore \text{ചാപം PAQ} = 120^\circ$$

(ഒരു ലഘുചാപത്തിന്റെ ഡിഗ്രി അളവ് ആ ചാപത്തിന്റെ കേന്ദ്രകോണിന്റെ അളവാകുന്നു).

$$\therefore \text{ചാപം PBQ} = 360^\circ - \text{ചാപം PAQ}$$

$$= 360^\circ - 120^\circ$$

$$= 240^\circ$$

7.  $\text{Cosec}^2 \theta - \text{Cot}^2 \theta = 1$  എന്ന ~ നമുക്കറിയാം

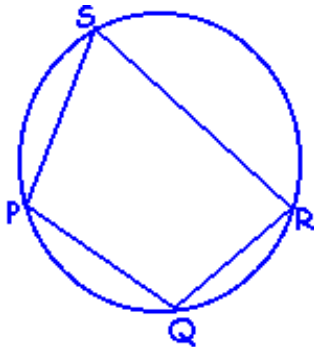
$$-\text{Cot}^2 \theta = 1 - \text{Cosec}^2 \theta$$

$$\text{Cot}^2 \theta = \text{Cosec}^2 \theta - 1$$

ശരിയായ ഉത്തരം :  $\text{Cot}^2 \theta = \text{Cosec}^2 \theta - 1$

BACK

8.



ഒരേ ചാപത്തിൽ അന്തർലേഖനം ചെയ്തിരിക്കുന്ന കോണുകൾ തുല്യ അളവുള്ളവയായിരിക്കും.

ലഘുചാപം QR ൽ അന്തർലേഖനം ചെയ്തിരിക്കുന്ന കോണാണ്  $\angle QSR$

ലഘുചാപം QR ൽ അന്തർലേഖനം ചെയ്തിരിക്കുന്ന വേറൊരു കോണാണ്  $\angle QPR$

$$\therefore \angle QSR = \angle QPR.$$

BACK

BACK

9. ഒരു സമചതുരസ്തുവിക്ക് 4 പാദവക്കുകൾ 4 പാർശ്വവക്കുകൾ ഉണ്ട്.

$$\text{ഒരു പാദവക്കിന്റെ നീളം} = a$$

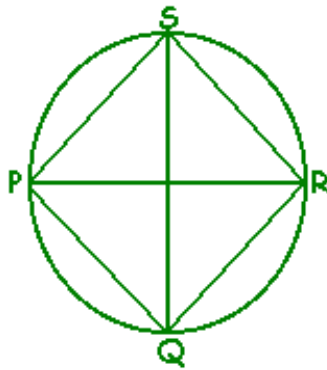
$$\therefore \text{എല്ലാവക്കുകളുടെയും കൂടി ആകെ നീളം} = 4a + 4a$$

$$= 8a$$

10.  $\angle PQS$  ന്റെ അന്തഃഖണ്ഡചാപമാണ് ചാപം PQ.

$\angle SQR$  ന്റെ അന്തഃഖണ്ഡചാപമാണ് ചാപം SR.

ഈ ജോടി കോണുകൾക്കാണ് ഒരേ അന്തഃഖണ്ഡചാപം ഇല്ലാത്തത്.



11. ഒരു ചക്രീയ ചതുർഭുജത്തിന്റെ എതിർശീർഷകോണുകൾ അനുപൂരകങ്ങളായിരിക്കും.

BACK

$$\angle M = 75^\circ$$

$$\therefore \angle K = 180^\circ - 75^\circ$$

$$= 105^\circ$$

$$\therefore \text{ശരിയായ ഉത്തരം} = 105^\circ$$

12. ഒരു ചാപവും അതിന്റെ എതിർചാപവും ചേർന്നാൽ ഒരു വൃത്തം ലഭിക്കും

$$\text{ചാപം APB} + \text{ചാപം AQB} = 360^\circ$$

$$\text{ചാപം APB} = 170^\circ$$

$$\therefore \text{ചാപം AQB} = 360^\circ - 170^\circ$$

$$= 190^\circ$$

$$\therefore \text{ശരിയായ ഉത്തരം} = 190^\circ$$

BACK

BACK

13. ഒരു ലഘുചാപത്തിന്റെ ഡിഗ്രി അളവ് ആ ചാപത്തിന്റെ കേന്ദ്രകോണിന്റെ അളവാകുന്നു.

$$\angle PCR = 95^\circ \text{ ആയതുകൊണ്ട്}$$

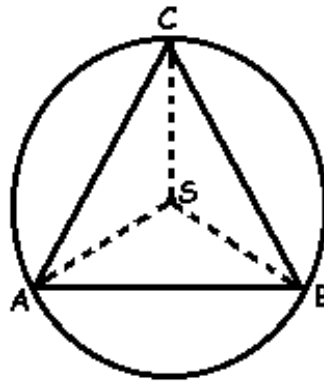
$$\text{ചാപം } PQR = 95^\circ$$

$$\therefore \text{ശരിയായ ഉത്തരം} = 95^\circ$$

14. ഒരു ലഘുചാപത്തിന്റെ ഡിഗ്രി അളവ് ആ ചാപത്തിന്റെ കേന്ദ്രകോണിന്റെ അളവാകുന്നു.

$$\therefore \text{കേന്ദ്രകോണിന്റെ അളവ്} = 75^\circ$$

- 15.



$$\text{ചാപം } BAC \text{ യുടെ ഡിഗ്രി അളവ്}$$

$$= \angle BSA + \angle ASC$$

$$= 100^\circ + 110^\circ$$

$$= 210^\circ$$

$$\therefore \text{ശരിയായ ഉത്തരം} = 210^\circ$$

16. ചൈപ്പിന്റെ ബാഹ്യവ്യാസം = 10 cm

$$\text{ബാഹ്യവ്യാസം} = 10 / 2$$

$$= 5 \text{ cm}$$

$$\text{ആന്തര ആരം} = 4 \text{ cm}$$

$$\text{ചൈപ്പിന്റെ കനം} = 5 - 4$$

BACK

BACK

BACK

$$= 1 \text{ cm}$$

∴ ശരിയായ ഉത്തരം = 1 cm

17.

$$\sin(90 - A) = \cos A$$

$$\sin(90 - 10) = \cos 10$$

$$\sin 80 = \cos 10$$

$$\frac{\sin 80}{\sin 10} = \frac{\cos 10}{\sin 10}$$

$$= \cot 10$$

$$x \text{ ന്റെ വില} = 10$$

∴ ശരിയായ ഉത്തരം = 10

BACK

18. പ്രാവ്താകങ്ങളുടെ എണ്ണം,  $n = 8$

$$\text{അഭ്യുഹമാധ്യം, } A = 64$$

A യിൽ നിന്നുള്ള വ്യതിയാനങ്ങളുടെ തുക,  $\sum D = -16$

$$\text{മാധ്യം, } \bar{x} = A + (\sum D / n)$$

$$= 64 + (-16 / 8)$$

$$= 64 - 2$$

$$= 62$$

19. ഒരു സമചതുര സ്പതുപികയ്ക്ക് 4 പാദവക്കുകളും 4 പാർശ്വവക്കുകളും ഉണ്ട്.

ഒരു പാദവക്കിന്റെ നീളം,  $a = 10 \text{ cm}$

പാർശ്വാനതി = ?

പാർശ്വമുഖ വിസ്തീർണ്ണം =  $4 \times$  ഒരു സമഭുജത്രികോണത്തിന്റെ വിസ്തീർണ്ണം

$$= 4 \times (\sqrt{3} a^2 / 4)$$

$$= \sqrt{3} a^2$$

കൂടാതെ പാർശ്വമുഖ വിസ്തീർണ്ണം =  $2al$

BACK

BACK

$$\therefore \sqrt{3} a^2 = 2al$$

$$\sqrt{3} a = 2l$$

$$\therefore l = \frac{\sqrt{3}a}{2}$$

$$= \frac{\sqrt{3} \times 10}{2}$$

$$= 5\sqrt{3} \text{ cm.}$$

20. വൃത്തസ്തുപികയുടെ വ്യാപ്തം =  $(1/3) \Pi r^2h$

r = ആരം

h = ഉന്നതി

BACK

വൃത്തസ്തുപികയുടെ വ്യാസം തുല്യമാണെന്ന് തന്നിട്ടുള്ളതിനാൽ ആരങ്ങളും തുല്യമായിരിക്കും. ആരം തുല്യമാകുമ്പോൾ, വ്യാപ്തം ഉന്നതിയോട് അനുപാതത്തിലായിരിക്കും.

ഉന്നതികളുടെ അംശബന്ധം = 3 : 2

വ്യാപ്തങ്ങളുടെ അംശബന്ധം = 3 : 2

ശരിയായ ഉത്തരം : 3 : 2 m

21.  $\text{Sin}^2 \theta + \text{Cos}^2 \theta = 1$

$$\therefore \frac{5\sqrt{\text{Sin}^2 \theta + \text{Cos}^2 \theta}}{2} = \frac{5 \times \sqrt{1}}{2}$$

$$= \frac{5 \times 1}{2}$$

$$= 5 / 2$$

22. അർദ്ധഗോളത്തിന്റെ പരന്നമുഖത്തിന്റെ വിസ്തീർണ്ണം =  $\Pi r^2$   
=  $18 \Pi \text{ cm}^2$

വക്രമുഖത്തിന്റെ വിസ്തീർണ്ണം =  $2 \Pi r^2$

BACK

$$= 2 \times 18 \Pi$$

$$= 36 \Pi \text{ cm}^2$$

BACK

23.  $\text{Sin}(90 - \theta) = \text{Cos } \theta$

$$\text{Cos}(90 - \theta) = \text{Sin } \theta \quad \text{എന്ന് നമുക്കറിയാം}$$

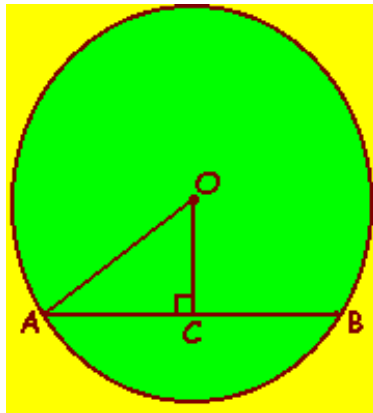
$$\frac{\text{Cos}(90 - \theta)}{\text{Sin}(90 - \theta)} = \frac{\text{Sin } \theta}{\text{Cos } \theta}$$

$$= \text{Tan } \theta$$

24.  $AB = 24$

$AC = 12$

$OC = 5$



$$AO^2 = AC^2 + OC^2$$

$$= 12^2 + 5^2$$

$$= 144 + 25$$

$$= 169$$

$$AO = \sqrt{169}$$

$$= 13$$

$$\text{വൃത്തത്തിന്റെ ആരം} = 13 \text{ cm}$$

$$\text{വൃത്തത്തിന്റെ വ്യാസം} = 13 \times 2$$

$$= 26 \text{ cm}$$

BACK

BACK

BACK

25.  $AB = 20 \text{ cm}$

$AC = 16 \text{ cm}$

$\angle A = 65^\circ$

$\sin A = 0.9063$

ത്രികോണം ABC യുടെ വിസ്തീർണ്ണം =  $\frac{1}{2} \times AB \times AC \times \sin A$

=  $(\frac{1}{2}) \times 20 \times 16 \times 0.9063$

=  $10 \times 16 \times 0.9063$

=  $145.008 \text{ cm}^2$

26.

പ്രാപ്തമാക്കം	$D = x - A$
36	0
38	2
42	6
24	-12
36	0
28	-8

$A = 36$

$\sum D = 0 + 2 + 6 + -12 + 0 + -8$

=  $8 - 20$

=  $-12$

$n = 6$

മാധ്യം,  $\bar{x} = A + (\sum D / n)$

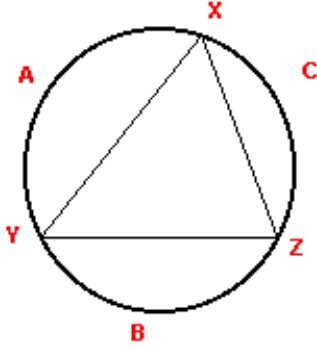
=  $36 + (-12 / 6)$

=  $36 - 2$

=  $34$

BACK

BACK



ചാപം  $XAY = 110^\circ$

ചാപം  $YBZ = 150^\circ$

ചാപം  $YBZ$  ൽ അന്തർലേഖനം ചെയ്തിരിക്കുന്ന കോണാണ്  $\angle X$

അന്തർലേഖനം ചെയ്യുന്ന കോൺ =  $1/2 \times$  അന്തഃഖണ്ഡചാപം

$$= 1/2 \times 150$$

$$= 75^\circ$$

ചാപം  $CZ$  ൽ അന്തർലേഖനം ചെയ്തിരിക്കുന്ന കോണാണ്  $\angle Y$

ചാപം  $XCZ = 360 - (\text{ചാപം } XAY + \text{ചാപം } YBZ)$

$$= 360 - (110 + 150)$$

$$= 360 - 260$$

$$= 100^\circ$$

$$\angle Y = 1/2 \times \text{ചാപം } XCZ$$

$$= 1/2 \times 100$$

$$= 50^\circ$$

ചാപം  $XAY$  ൽ അന്തർലേഖനം ചെയ്തിരിക്കുന്ന കോണാണ്  $\angle Z$ .

$$\angle Z = 1/2 \times \text{ചാപം } XAY$$

$$= 1/2 \times 110$$

$$= 55^\circ$$

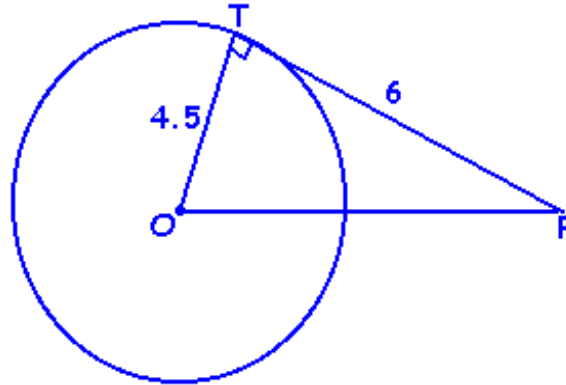
$$\angle X = 75^\circ$$

$$\angle Y = 50^\circ$$

$$\angle Z = 55^\circ$$

BACK

28.



$$OT = 4.5$$

$$PT = 6$$

$$OT \perp PT$$

$\Delta OPT$  ഒരു മട്ടത്രികോണമാണ്

BACK

$$OP^2 = PT^2 + OT^2$$

$$= 6^2 + 4.5^2$$

$$= 36 + 20.25$$

$$= 56.25$$

$$\therefore OP = \sqrt{56.25}$$

$$= 7.5 \text{ cm}$$

29. സങ്കല്പം

O കേന്ദ്രമായ വൃത്തത്തിൽ ,  
ഞാൺ AB = ഞാൺ CD കൂടാതെ

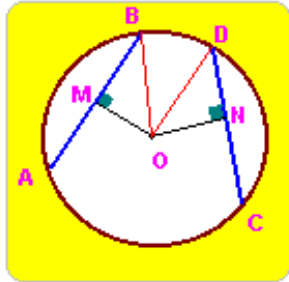
$$OM \perp AB$$

$$ON \perp CD$$

BACK

അനുമാനം

$$OM = ON$$



തെളിവ്

OB, OD ഇവ വരയ്ക്കുക

$\Delta OBM, \Delta ODN$  ഇവ പരിഗണിക്കുക

പ്രസ്താവന

കാരണം

- |                                  |  |
|----------------------------------|--|
| 1. $BM = 1/2 AB$                 | സങ്കല്പം: വൃത്തകേന്ദ്രത്തിൽ നിന്നും ഞാനിലേയ്ക്കുള്ള ലംബം ഞാനിനെ സമഭാഗം ചെയ്യും.  |
| 2. $DN = 1/2 CD$                 | സങ്കല്പം: : വൃത്തകേന്ദ്രത്തിൽ നിന്നും ഞാനിലേയ്ക്കുള്ള ലംബം ഞാനിനെ സമഭാഗം ചെയ്യും |
| 3. $AB = CD$                     | സങ്കല്പം:  |
| 4. $BM = DN$                     | പ്രസ്താവന 1, 2, 3  |
| 5. $\angle M = \angle N = 90$    | സങ്കല്പം: ലംബത്തിന്റെ നിർവ്വചനം  |
| 6. $BO = DO$                     | ഒരേ വൃത്തത്തിന്റെ ആരങ്ങൾ   |
| 7. $\Delta OBM \cong \Delta ODN$ | പ്രസ്താവന 4, 5, 6. RHS സിദ്ധാന്തം  |
| 8. $OM = ON$                     | സർവ്വസമത്രികോണങ്ങളുടെ സമാനഭാഗങ്ങളുടെ അളവുകൾ                                      |

30.

BACK

$$\frac{\sin A}{1 + \cos A} + \frac{\sin A}{1 - \cos A}$$

$$\text{ലസാഗു} = (1 + \cos A)(1 - \cos A)$$

$$\frac{\sin A}{1 + \cos A} + \frac{\sin A}{1 - \cos A}$$

$$= \frac{\sin A (1 - \cos A) + \sin A (1 + \cos A)}{1 - \cos^2 A}$$

$$= \frac{\sin A - \sin A \cos A + \sin A + \sin A \cos A}{1 - \cos^2 A}$$

$$= \frac{2 \sin A}{1 - \cos^2 A}$$

$$= \frac{2}{\sin A}$$

$$= 2 \operatorname{Cosec} A$$

31. ചൈപ്പിന്റെ നീളം,  $h = 50 \text{ cm}$ 

BACK

$$R + r = 20 \text{ cm}$$

$$\text{ചൈപ്പിന്റെ കനം} = R - r$$

$$= 2 \text{ cm}$$

$$\text{ചൈപ്പിന്റെ വ്യാപ്തം} = \Pi (R + r)(R - r)h$$

$$= \Pi \times 20 \times 2 \times 50$$

$$= 3.14 \times 20 \times 2 \times 50$$

$$= 6280 \text{ cm}^3$$

32.  $P_0 =$  അടിസ്ഥാനവർഷത്തിലെ വില $P_1 =$  നടപ്പുവർഷത്തെ വില

BACK

BACK

ഉത്പന്നം	1994 ലെ വില P <sub>0</sub>	1996 ലെ വില P <sub>1</sub>
A	425	615
B	345	380
C	214	258
D	197	224

$$\Sigma P_0 = 425 + 345 + 214 + 197$$

$$= 1181$$

$$\Sigma P_1 = 615 + 380 + 258 + 224$$

$$= 1477$$

$$\text{വിലനിലവാര സൂചിക} = \frac{\Sigma P_1}{\Sigma P_0} \times 100$$

BACK

$$= \frac{1477}{1181} \times 100$$

$$= 1.2506 \times 100$$

$$= 125.06$$

33. ആവശ്യമുള്ള വിസ്തീർണ്ണം = ഉപരിതല വിസ്തീർണ്ണം  $\times$  100

$$= 4 \Pi r^2 \times 100$$

$$= \frac{25 \times 25 \times 100 \Pi}{100 \times 100} \text{ m}^2$$

$$= 19.625 \text{ m}^2.$$

34.

പ്രായപരിധി	Rx	Sx	RxSx
15 ന് താഴെ	13	28,000	3,64,000
15 - 29	4	50,000	2,00,000
30 ഉം അതിന് മുകളിലും	35	65,000	22,75,000

$$\Sigma SxRx = 3,64,000 + 2,00,000 + 22,75,000$$

$$= 28,39,000$$

BACK

BACK

$$\Sigma Sx = 28,000 + 50,000 + 65,000$$

$$= 1,43,000$$

$$SDR = \Sigma SxR_x / \Sigma Sx$$

$$= \frac{28,39,000}{1,43,000}$$

$$= 19.85$$

$$\approx 20$$

ശരിയായ ഉത്തരം = 20

35.  $\angle A = 56^\circ$

$$AB = 7m$$

$$BC = ?$$

$$\text{Sin } A = \frac{\text{എതിർവശം}}{\text{കർണ്ണം}}$$

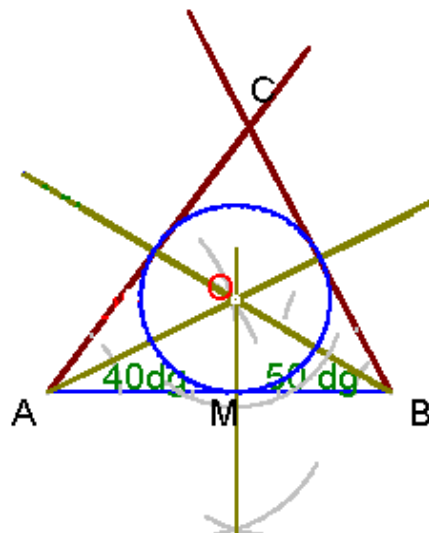
$$\text{Sin } 56 = \frac{BC}{AB}$$

$$BC = \text{Sin } 56 \times AB$$

$$= 5.8030 m$$

BACK

36.



BACK

BACK

8.5 cm നീളത്തിൽ AB വരയ്ക്കുക. A യിൽ വച്ച് 40° യിലും B യിൽ വച്ച് 50° യിലും രേഖാഖണ്ഡങ്ങൾ വരയ്ക്കുക. ഇവയുടെ സംഗമ ബിന്ദുവിനെ O എന്ന് രേഖപ്പെടുത്തുക. AC, BC ഇവ യോജിപ്പിക്കുക.

ത്രികോണത്തിന്റെ കോണുകളുടെ സമഭാജികൾ വരയ്ക്കുക. അവ ഖണ്ഡിക്കുന്ന ബിന്ദുവാണ് അന്തർവൃത്തകേന്ദ്രം (O)

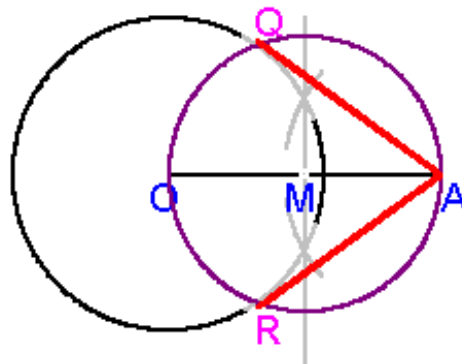
വൃത്തകേന്ദ്രത്തിൽ നിന്നും ഏതെങ്കിലും ഒരു ഭുജത്തിലേയ്ക്കുള്ള ലംബം വരയ്ക്കുക.

വൃത്തകേന്ദ്രത്തിൽ നിന്ന് ലംബം ഭുജത്തെ ഖണ്ഡിക്കുന്ന ബിന്ദുവിലേയ്ക്കുള്ള ദൂരമാണ് അന്തർവൃത്തത്തിന്റെ ആരം.

ആ ബിന്ദുവിനെ M എന്ന് രേഖപ്പെടുത്തുക. O കേന്ദ്രമായും OM ആരമായും ഒരു വൃത്തം വരച്ചാൽ അന്തർവൃത്തം ലഭിക്കുന്നു.

അന്തർവൃത്തത്തിന്റെ ആരം. = 3.4 cm

37.



BACK

O കേന്ദ്രമായി 4 cm ആരത്തിൽ ഒരു വൃത്തം വരയ്ക്കുക. കേന്ദ്രത്തിൽ നിന്നും 7 സെ.മീ അകലെ A എന്ന ബിന്ദു രേഖപ്പെടുത്തുക. OA യുടെ മദ്ധ്യലംബം വരയ്ക്കുക. ലംബം OA യിൽ കൂട്ടിമുട്ടുന്ന ബിന്ദുവിനെ M എന്ന രേഖപ്പെടുത്തുക. M കേന്ദ്രമായി വരത്തക്കവിധത്തിൽ OM ആരത്തിൽ ഒരു വൃത്തം വരയ്ക്കുക. O കേന്ദ്രമായിട്ടുള്ള വൃത്തവും M കേന്ദ്രമായിട്ടുള്ള വൃത്തവും കൂട്ടിമുട്ടുന്ന ബിന്ദുക്കളെ Q എന്നും R എന്നും രേഖപ്പെടുത്തുക

AQ, AR ഇവ യോജിപ്പിക്കുക. ഇവയാണ് O കേന്ദ്രമായിട്ടുള്ള വൃത്തത്തിലേയ്ക്കുള്ള സ്പർശരേഖാഖണ്ഡങ്ങൾ.

$$AQ = AR = 5.7 \text{ സെ.മീ}$$

38. അർദ്ധഗോളത്തിന്റെ വ്യാപ്തം =  $(2/3) \Pi r^3$

r = ആരം

$$r = 36 \text{ cm}$$

BACK

BACK

$$\text{വ്യാപ്തം} = (2/3) \times \Pi \times 36 \times 36 \times 36$$

$$\text{വൃത്തസ്തൂപികയുടെ വ്യാപ്തം} = (1/3) \Pi r^2 h$$

$$r = \text{ആരം}$$

$$h = \text{ഉന്നതി}$$

$$r = 48 \text{ cm}$$

$$\text{വ്യാപ്തം} = (1/3) \times \Pi \times 48 \times 48 \times h$$

$$\text{അർദ്ധഗോളത്തിന്റെ വ്യാപ്തം} = \text{വൃത്തസ്തൂപികയുടെ വ്യാപ്തം}$$

$$(2/3) \times \Pi \times 36 \times 36 \times 36 = (1/3) \times \Pi \times 48 \times 48 \times h$$

$$2 \times 36 \times 36 \times 36 = 48 \times 48 \times h$$

$$h = \frac{2 \times 36 \times 36 \times 36}{48 \times 48}$$

$$= 40.5 \text{ cm}$$

BACK

39.

ക്ലാസ്സ് പരിധി	മധ്യാങ്കം	f	D	fD
5 – 15	10	1	- 30	- 30
15 – 25	20	6	- 20	-120
25 – 35	30	20	- 10	- 200
35 – 45	40	8	0	0
45 – 55	50	3	10	30
55 – 65	60	2	20	40

$$A = 40$$

$$D = X - A$$

$$N = \sum f$$

$$= 1 + 6 + 20 + 8 + 3 + 2$$

$$= 40$$

$$\sum fD = -30 + -120 + -200 + 0 + 30 + 40$$

$$= -350 + 70$$

BACK

$$= -280$$

BACK

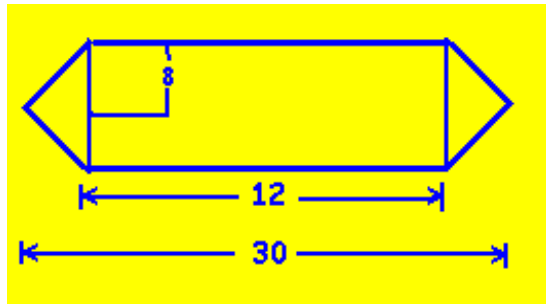
$$\text{മാധ്യം, } \bar{x} = A + (\sum fD / N)$$

$$= 40 + (-280 / 40)$$

$$= 40 - 7$$

$$= 33$$

40. കളിപ്പാട്ടത്തിന്റെ വ്യാപ്തം = വൃത്തസ്തംഭത്തിന്റെ വ്യാപ്തം + രണ്ട് വൃത്തസ്തുപികളുടെ വ്യാപ്തം.



വൃത്തസ്തംഭത്തിന്റെ വ്യാപ്തം

$$\text{ആരം} = 8 \text{ cm}$$

$$\text{ഉന്നതി} = 12 \text{ cm}$$

$$\text{വ്യാപ്തം} = \Pi r^2 h$$

$$= \Pi \times 8 \times 8 \times 12$$

$$= 768 \Pi$$

BACK

വൃത്തസ്തുപികളുടെ വ്യാപ്തം

$$\text{ആരം} = 8 \text{ cm}$$

$$\text{ഉന്നതി} = (30 - 12) / 2$$

$$= 9 \text{ cm}$$

$$\text{വ്യാപ്തം} = (1/3) \Pi r^2 h$$

$$= (1/3) \Pi \times 8 \times 8 \times 9$$

$$= 64 \times 3 \Pi$$

$$= 192 \Pi$$

$$\text{രണ്ട് വൃത്തസ്തുപികളുടെ വ്യാപ്തം} = 2 \times 192 \Pi$$

$$= 384 \Pi$$

$$\text{കളിപ്പാട്ടത്തിന്റെ വ്യാപ്തം} = 768 \Pi + 384 \Pi$$

$$= 1152 \Pi$$

$$= 3617.28 \text{ cm}^2$$

BACK

up