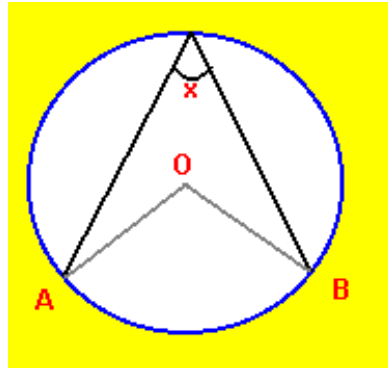


September 1997 Mathematics II – Answers

[Back](#)

1. സ്തുപികയുടെ നേർവെണ്ഡം ഒരു ഷഡ്ഭുജക്ഷേത്രമാണ്. സ്തുപികയുടെ ഫദവും ഷഡ്ഭുജക്ഷേത്രമാണ്. പാദത്തിന് 6 മൂലകളുണ്ട്. സ്തുപികയുടെ ശീർഷവും കൂടി ചേർന്നാൽ ആകെ 7 മൂലകളുണ്ടായിരിക്കും.
2. ദീർഘചാപം AB യിൽ അന്തർലേഖനം ചെയ്തിരിക്കുന്ന കോണിന്റെ ഡിഗ്രി അളവ് x ആണ്.



ലഘുചാപം AB യുടെ കേന്ദ്രകോണിന്റെ അളവ് = $2x$

[Back](#)

ലഘുചാപം AB യുടെ അന്തഃഖണ്ഡചാപത്തിന്റെ അളവ് = $2 \times$ ലഘുചാപം AB യിൽ അന്തർലേഖനം ചെയ്തിരിക്കുന്ന കോണിന്റെ അളവ്

= $2 \times$ ദീർഘചാപം AB യുടെ അന്തർലിഖിത കോണിന്റെ അളവ്

= $2x$ ദീർഘചാപം AB യുടെ അളവ്

= $360 -$ ലഘുചാപം AB യുടെ അളവ്

= $360 - 2x$

ശരിയായ ഉത്തരം : $360 - 2x$

3. മധ്യം = $(\text{നീചപരിധി} + \text{ഉച്ച പരിധി}) \div 2$ ഉത്തരങ്ങൾ പരിശോധിച്ചാൽ

$$\begin{aligned}
 & 1. \quad 39 - 50 \\
 \text{മധ്യം} & = (39 + 50) \div 2 \\
 & = 89 \div 2 \\
 & = 44.5
 \end{aligned}$$

$$\begin{aligned}
 & 2. \quad 40 - 50 \\
 \text{മധ്യം} & = (40 + 50) \div 2
 \end{aligned}$$

[Back](#)

$$= 90 \div 2$$

$$= 45$$

3. $40 - 49$

$$\text{മധ്യം} = (40 + 49) \div 2$$

$$= 89 \div 2$$

$$= 44.5$$

4. $41 - 50$

$$\text{മധ്യം} = (41 + 50) \div 2$$

$$= 91 \div 2$$

$$= 45.5$$

ശരിയായ ഉത്തരം : **40 - 50**

4. $\text{Cot } A \text{ Sin } A = (\text{Cos } A / \text{Sin } A) \cdot \text{Sin } A$

$$= \text{Cos } A \cdot \text{Sin } A / \text{Sin } A = \text{Cos } A.$$

ശരിയായ ഉത്തരം = **Cos A.**

5. ആരം = r ആണെന്ന് തന്നിട്ടുണ്ട്

$$\text{വ്യാസം} = \text{പാർശ്വാനതി} = 2r$$

$$\text{ഉന്നതി } h = \sqrt{(\text{പാർശ്വാനതി})^2 - (\text{ആരം})^2}$$

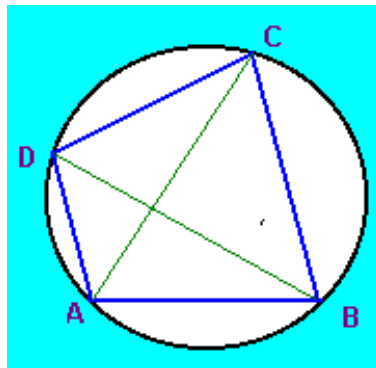
$$= \sqrt{(2r)^2 - r^2}$$

$$= \sqrt{4r^2 - r^2}$$

$$= \sqrt{3} r.$$

6. ചാപം DABC യിൽ അന്തർലേഖനം ചെയ്തിരിക്കുന്ന കോണാണ് $\angle DBC$

ചാപം DABC യിൽ അന്തർലേഖനം ചെയ്തിരിക്കുന്ന മറ്റൊരു കോണാണ് $\angle DAC$



ഒരേ ചാപത്തിൽ അന്തർലേഖനം ചെയ്തിട്ടുള്ള കോണുകളുടെ അളവുകൾ തുല്യമായിരിക്കും.

[Back](#)

[Back](#)

[Back](#)

$$\angle DBC = \angle DAC$$

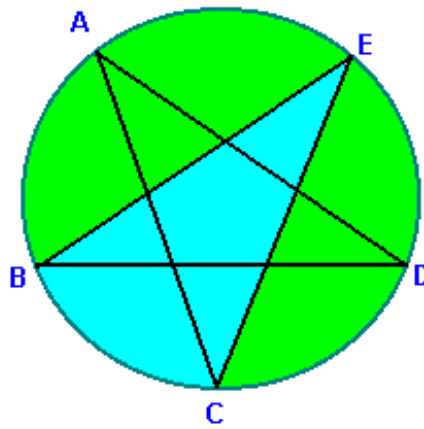
7. $1 - \cos^2 A$ പരിഗണിക്കുക

$$1 - \cos^2 A = \sin^2 A$$

$$\sqrt{1 - \cos^2 A} = \sin A$$

ശരിയായ ഉത്തരം : $1 - \cos^2 A$

8. $\angle E = \angle BEC$ ദീർഘചാപം BC യിൽ അന്തർലേഖം ചെയ്തിരിക്കുന്ന കോണാണ് $\angle BEC$. ചാപം BAC യുടെ അന്തർലിഖിത കോണാണ് $\angle E$



[Back](#)

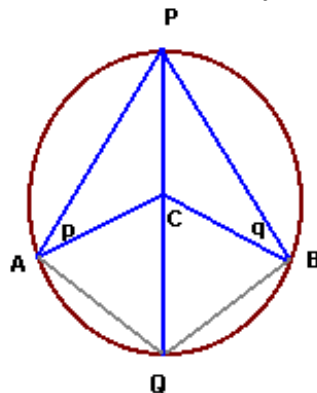
9. മരിച്ചവരുടെ എണ്ണം = x

മധ്യവർഷ ജനസംഖ്യ = y

$$\text{CDR} = \frac{\text{മരിച്ചവരുടെ എണ്ണം} \times 1000}{\text{മധ്യവർഷ ജനസംഖ്യ}} = \frac{x}{y} \times 1000$$

ശരിയായ ഉത്തരം : $(x / y) \times 1000$

10. ചക്രീയ ചതുർഭുജം APBQ പരിഗണിക്കുക



$$\angle APB + \angle AQB = 180$$

[Back](#)

$$\angle APB = \angle APC + \angle BPC$$

[Back](#)

$$\angle APC = \angle PAC = p \text{ (} AC = PC = \text{ ആരം)}$$

$$\angle BPC = \angle PBC = q \text{ (} BC = PC = \text{ ആരം)}$$

$$\angle APB = \angle APC + \angle BPC$$

$$= p + q$$

$$\angle AQB = 180 - \angle APB = 180 - (p + q)$$

11. ഒരു ചക്രീയ ചതുർഭുജത്തിന്റെ എതിർശീർഷകോണുകൾ അനുപുരകങ്ങളാണെന്ന്

$$A + C = 180$$

$$A = 180 - C$$

$$= 180 - 60 = 120$$

ശരിയായ ഉത്തരം : 120

12. എതിർചാപങ്ങളുടെ ഡിഗ്രി അളവുകളുടെ തുക = 360

$$\text{ചാപം } APB + \text{ചാപം } AQB = 360^\circ$$

[Back](#)

$$\text{ചാപം } AQB = 360 - 140 = 220^\circ$$

13. ഒരു ലഘുചാപത്തിന്റെ ഡിഗ്രി അളവ് ആ ചാപത്തിന്റെ കേന്ദ്രകോണിന്റെ അളവാകുന്നു

$$XCZ = 80^\circ \text{ ചാപം } XYZ = 80^\circ$$

ശരിയായ ഉത്തരം : 80°

14. അർദ്ധവൃത്തത്തിന്റെ ഡിഗ്രി അളവ് 180 ആണ്

$$\text{ചാപം } ABC = 180^\circ$$

15. അഭ്യുഹമാധ്യം $A = 48$

$$\text{പ്രാപ്താങ്കങ്ങളുടെ എണ്ണം, } n = 12$$

$$A \text{ യിൽ നിന്നുള്ള വ്യതിയാനങ്ങളുടെ തുക, } \Sigma d = -12$$

$$\text{മാധ്യം } x = A + \Sigma d/n$$

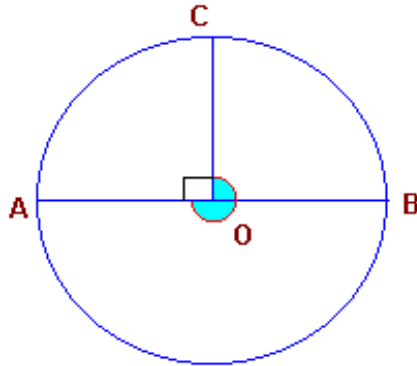
$$= 48 + -12/12$$

$$= 48 + -1 = 47$$

[Back](#)

16. AB, O കേന്ദ്രമായ വൃത്തത്തിന്റെ വ്യാസമാണ്. OC \perp AB

[Back](#)



$$\angle AOC = 90 \text{ ചാപം } AC = 90$$

$$\text{ചാപം } ABC = 360 - \angle AOC$$

$$= 360 - 90 = 270$$

[Back](#)

ശരിയായ ഉത്തരം : 270

17. ഒരു സമചതുരസ്തുപികയ്ക്ക് 4 പാദവക്കുകളും 4 പാർശ്വവക്കുകളും ഉണ്ട്

ഒരു പാദവക്കിന്റെ നീളം = 5 സെ.മീ

4 പാദവക്കുകളുടെ നീളം = 20 സെ.മീ

പാർശ്വവക്കിന്റെ നീളം = 5 സെ.മീ

4 പാർശ്വവക്കുകളുടെ നീളം = 20 സെ.മീ

ആകെ വക്കുകളുടെ നീളം $20 + 20 = 40$ സെ.മീ

18. $\cos A = \cos (90 - A)$

$$A = 90 - A$$

$$2A = 90, A = 90/2 = 45.$$

ശരിയായ ഉത്തരം : = 45

19. പൈപ്പിന്റെ ആന്തരവ്യാസം = 22 സെ.മീ

[Back](#)

ആന്തര ആരം = 11 സെ.മീ

പൈപ്പിന്റെ കനം = 4 സെ.മീ

ബാഹ്യആരം = ആന്തരആരം + കനം

$$= 11 + 4 = 15 \text{ സെ.മീ}$$

[Back](#)

20. വൃത്തസ്തുപികയുടെ വക്രമുഖവിസ്തീർണ്ണം = $\Pi r l$

r = ആരം

l = പാർശ്വാനതി

$$\text{പാദചുറ്റളവ്} = 2\Pi r = 16 \Pi$$

$$\Pi r = 8 \Pi$$

പാർശ്വാനതി $l = 12$ സെ.മീ

$$\text{വക്രമുഖവിസ്തീർണ്ണം} = \Pi r l$$

$$= 8 \Pi \times 12 = 96 \Pi \text{ cm}^2$$

ശരിയായ ഉത്തരം : **96 cm²**

[Back](#)

21. $1 + \tan^2 B = 1 + \sin^2 B / \cos^2 B$

$$= (\cos^2 B + \sin^2 B) / \cos^2 B$$

$$= 1 / \cos^2 B = \sec^2 B$$

$$(1 + \tan^2 B) / \sec^2 B = \sec^2 B / \sec^2 B = 1$$

$$\sqrt{((1 + \tan^2) / \sec^2)} = \sqrt{1}$$

$$= 1.$$

22. ഒരു ഗോളത്തിന്റെ ഉപരിതല വിസ്തീർണ്ണം = $4 \Pi r^2$

ഉപരിതല വിസ്തീർണ്ണവും ആരത്തിന്റെ വർഗ്ഗവും അനുപാതത്തിലാണ്

$$2r \text{ ആരമുള്ള ഗോളത്തിന്റെ ഉപരിതല വിസ്തീർണ്ണം} = 4\Pi(2r)^2$$

$$= 4\Pi \times 4r^2$$

$$= 16 \Pi r^2$$

[Back](#)

$$= 4 \times 4 \pi r^2$$

[Back](#)

$= 4 \times r$ ആരമുള്ള ഗോളത്തിന്റെ ഉപരിതല വിസ്തീർണ്ണം

ആരം ഇരട്ടിയായപ്പോൾ ഉപരിതലവിസ്തീർണ്ണം 4 മടങ്ങായി വർദ്ധിച്ചു.

ഗോളത്തിന്റെ ഉപരിതലവിസ്തീർണ്ണം $= 12 \pi \text{ cm}^2$.

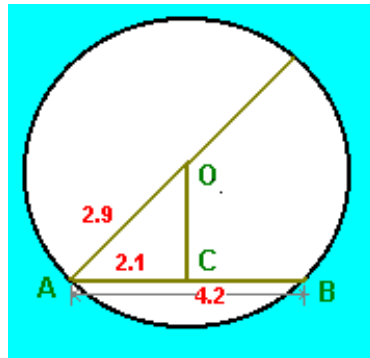
ഇരട്ടി ആരമുള്ള ഗോളത്തിന്റെ ഉപരിതലവിസ്തീർണ്ണം

$$= 12 \pi \times 4 = 48 \pi \text{ cm}^2.$$

23. ചിത്രം നോക്കുക വൃത്തകേന്ദ്രം O ആണ്.

വൃത്തത്തിലെ ഒരു ഞാനാണ് AB

$OC \perp AB$



[Back](#)

$AC = BC$ (വൃത്തകേന്ദ്രത്തിൽ നിന്നുള്ള ലംബം ഞാനിനെ സമഭാഗം ചെയ്യും.)

$$AC^2 + OC^2 = OA^2$$

$$2.9^2 = 2.1^2 + OC^2$$

$$OC^2 = 2.9^2 - 2.1^2$$

$$= (2.9 + 2.1)(2.9 - 2.1)$$

$$= 5 \times 0.8 = 4$$

$$OC = \sqrt{4} = 2 \text{ cm}$$

വൃത്തകേന്ദ്രത്തിൽ നിന്നും ഞാനിലേയ്ക്കുള്ള ദൂരം = 2 സെ.മീ

24. ത്രികോണം ABC യുടെ വിസ്തീർണ്ണം $= \frac{1}{2} \times AB \times BC \sin B$

$$= \frac{1}{2} \times 18 \times 12 \times 0.8192$$

[Back](#)

$$= 108 \times 0.8192$$

$$= 88.4736 \text{ cm}^2$$

[Back](#)

25. മാധ്യം = പ്രാപ്താങ്കങ്ങളുടെ തുക
പ്രാപ്താങ്കങ്ങളുടെ എണ്ണം

$$\text{പ്രാപ്താങ്കങ്ങളുടെ തുക} = 10 \times 13 = 130$$

14, 12 എന്നീ രണ്ട് പ്രാപ്താങ്കങ്ങൾ കൂടി

$$\text{ഉൾപ്പെടുത്തിയാൽ ആകെ തുക} = 130 + 12 + 14 = 156$$

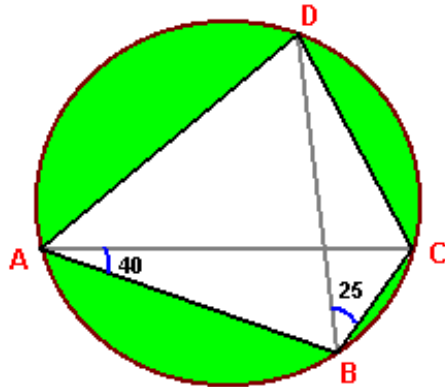
$$\text{പ്രാപ്താങ്കങ്ങളുടെ എണ്ണം} = 12$$

$$\text{മാധ്യം} = 156/12 = 13$$

മാധ്യം വ്യത്യസ്തമില്ലാതെ തുടരുന്നു.

26. ചിത്രം ശ്രദ്ധിക്കുക

[Back](#)



$$\angle BAC = 40 \quad \angle DBC = 25$$

ചാപം BADC യിൽ അന്തർലേഖനം ചെയ്തിരിക്കുന്ന കോണാണ് $\angle BDC$.

ചാപം BADC യിൽ അന്തർലേഖനം ചെയ്തിരിക്കുന്ന മറ്റൊരു കോണാണ് $\angle BAC$.

ഒരേ ചാപത്തിൽ അന്തർലേഖനം ചെയ്തിരിക്കുന്ന കോണുകൾ തുല്യ ആളവു
ള്ളവയാണ്.

$$\angle BAC = \angle BDC = 40$$

ചാപം BAD യിൽ അന്തർലേഖനം ചെയ്തിരിക്കുന്ന കോണുകളാണ് $\angle CAD$ യും
 $\angle CBD$ യും.

[Back](#)

[Back](#)

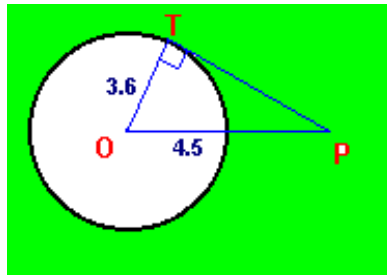
$$\angle CAD = \angle CBC = 25$$

27. $\sin A \cdot \cot A = \sin A \times (\cos A / \sin A)$

$$= \cos A$$

$$= 1/\sec A$$

28. വൃത്തത്തിന്റെ ആരം $= 7.2/2 = 3.6$



$$OT = 3.6$$

$$OP = 4.5$$

$$OP^2 = OT^2 + PT^2$$

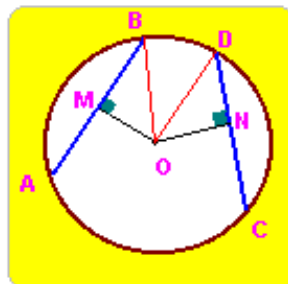
$$PT^2 = OP^2 - OT^2$$

$$= 4.5^2 - 3.6^2 = (4.5 + 3.6)(4.5 - 3.6) = 8.1 \times 0.9$$

$$PT = \sqrt{(8.1 \times 0.9)} = \sqrt{(0.81 \times 9)} = 0.9 \times 3 = 2.7 \text{ cm.}$$

[Back](#)

29.



സങ്കല്പം O കേന്ദ്രമായ വൃത്തത്തിൽ ഞാൺ AB = ഞാൺ CD

കുടാതെ

$OM \perp AB, ON \perp CD$

[Back](#)

അനുമാനം

[Back](#)

OM = ON

തെളിവ്

OD, OB ഇവ വരയ്ക്കുക

OBM, ODN ഇവ പരിഗണിക്കുക

പ്രസ്താവന

കാരണം

- 1. $BM = \frac{1}{2} AB$ സങ്കല്പം : വൃത്ത കേന്ദ്രത്തിൽ നിന്നു ഞാനിലേക്കുള്ള ലംബം ഞാനിനെ സമഭാഗം ചെയ്യും
- 2. $DN = \frac{1}{2} CD$ സങ്കല്പം : വൃത്തകേന്ദ്രത്തിൽ നിന്നും ഞാനിലേക്കുള്ള ലംബം ഞാനിനെ സമഭാഗം ചെയ്യും.
- 3. $AB = CD$ സങ്കല്പം
- 4. $BM = DN$ പ്രസ്താവന 1, 2, 3
- 5. $LM = LN = 90$ സങ്കല്പം, ലംബത്തിന്റെ നിർവ്വചനം.
- 6. $BO = DO$ ഒരേ വൃത്തത്തിന്റെ ആരങ്ങൾ
- 7. $\triangle OBM \cong \triangle ODN$ പ്രസ്താവന 4, 5, 6, R.H.S. സിദ്ധാന്തം.
- 8. $OM = ON$ സർവ്വസമ ത്രികോണങ്ങളുടെ സമാനഭാഗങ്ങളുടെ അളവുകൾ

[Back](#)

30. $(1 + \cos B)(1 - \cos B) = 1 - \cos^2 B$
 $= \sin^2 B = (\sin B)^2$
 $= 1/(\operatorname{cosec} B)^2 = 1/\operatorname{cosec}^2 B.$

31. ഗോളത്തിന്റെ ഉപരിതല വിസ്തീർണ്ണം = $324 \pi \text{ cm}^2$

r ആരമുള്ള ഗോളത്തിന്റെ ഉപരിതലവിസ്തീർണ്ണം $r = 4 \pi r^2.$

അർദ്ധഗോളത്തിന്റെ ഉപരിതലവിസ്തീർണ്ണം = $3 \pi r^2.$

$4\pi r^2 = 324 \pi.$

$3 \pi r^2 = 4 \pi r^2 \times (3/4)$

$= 324 \pi \times (3/4)$

$= 81 \pi \times 3$

$= 243 \pi \text{ cm}^2.$

[Back](#)

32.

[Back](#)

പ്രായപരിധി	Rx	Sx	Sx Rx
10 ന് താഴെ	16	15000	240000
10-29	5	40000	200000
30 ന് മുകളിൽ	38	36000	1368000

$$\Sigma SxRx = 240000 + 200000 + 1368000$$

$$= 1808000$$

$$\Sigma Sx = 15000 + 40000 + 36000$$

$$= 91000$$

$$SDR = \Sigma SxRx / \Sigma Sx$$

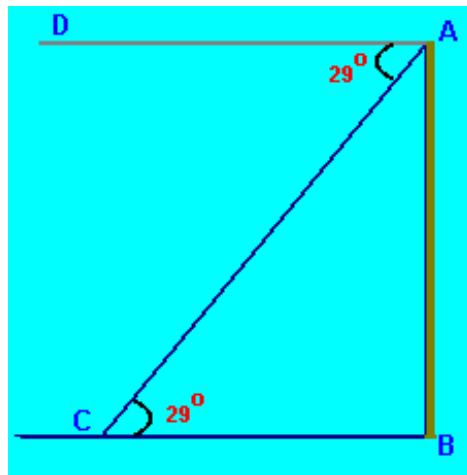
$$= 1808000 \div 91000$$

$$= 19.868$$

$$= 20$$

[Back](#)

33. ചിത്രംനോക്കുക



ഗോപുരം AB യും താഴെ കാണുന്ന വസ്തു C യും ആണ്

ദൂരം AC = 1500 ms

ഗോപുരത്തിന്റെ ഉയരം = AB

$\angle DAC = 29^\circ$

[Back](#)

$$\angle ACB = 29^\circ$$

[Back](#)

$$AB/AC = \sin 29$$

$$AB = AC \times \sin 29$$

$$= 1000 \times 0.4848$$

$$= 484.8 \text{ m}$$

ഗോപുരത്തിന്റെ ഉയരം = 484.8 m

34. ഒരു പൈപ്പിന്റെ അഗ്രമുഖത്തിന്റെ ബാഹ്യ ചുറ്റളവ് = 8π cm

[Back](#)

$$\text{ബാഹ്യ ആരം} = 8\pi / 2\pi = 4 \text{ cm}$$

$$\text{പൈപ്പിന്റെ കനം} = 1 \text{ cm}$$

$$\text{ആന്തര ആരം} = 4 - 1 = 3 \text{ സെ.മീ}$$

$$\text{പൈപ്പിന്റെ നീളം} = 12 \text{ സെ.മീ}$$

$$\text{ആന്തരവക്രമുഖ വിസ്തീർണ്ണം} = 2\pi rh$$

$$= 2\pi \times 3 \times 12$$

$$= 72\pi.$$

35. 1994 = അടിസ്ഥാന വർഷം

1996 = നടപ്പു വർഷം

P_0 = അടിസ്ഥാനവർഷം

P_1 = നടപ്പുവർഷത്തെ വില

പച്ചക്കറി	P_0 (Rs/Kg)	P_1 (Rs/Kg)
ഉരുളക്കിഴങ്ങ്	6.50	8.50
ടൊമാറ്റോ	7.50	12.50
ഉള്ളി	8.50	13.50
കാബേജ്	6.90	8.80

$$\Sigma P_0 = 6.50 + 7.50 + 8.50 + 6.90$$

$$= 29.4$$

$$\Sigma P_1 = 8.50 + 12.50 + 13.50 + 8.80$$

[Back](#)

[Back](#)

$$= 43.3$$

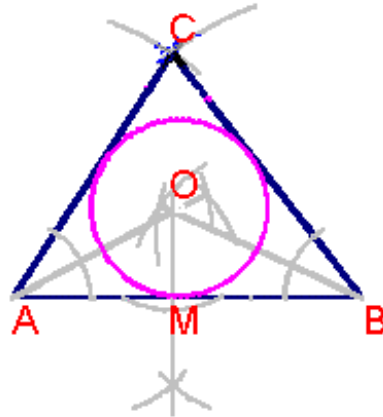
$$\text{വിലനിലവാര സൂചിക} = \frac{\Sigma P_1}{\Sigma P_0} \times 100$$

$$= \frac{43.3}{29.4} \times 100$$

$$= 147.28$$

$$= 147$$

36. 9 സെ.മീ. നീളത്തിൽ AB വരയ്ക്കുക. B യിൽ 8 സെ.മീ അകലെ ഒരു ലഘുചാപം വരയ്ക്കുക. A യിൽ നിന്ന് 7.5 സെ.മീ അകലെ (B യിൽ നിന്നുള്ള ചാപത്തിന്റെ അതേ ദിശയിൽ) മറ്റൊരു ചാപം വരയ്ക്കുക. ഇവയുടെ സംഗമബിന്ദുവാണ് C. AC യും BC യും യോജിപ്പിക്കുക.



[Back](#)

ത്രികോണത്തിന്റെ കോണുകളുടെ സമഭാജികൾ വരയ്ക്കുക. അവ ഖണ്ഡിക്കുന്ന ബിന്ദുവാണ് അന്തർവൃത്തകേന്ദ്രം (C)

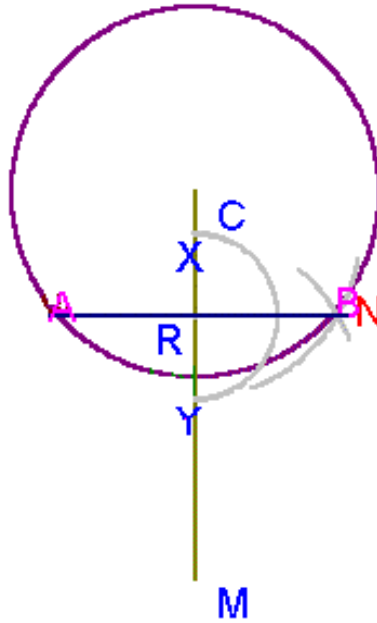
വൃത്തകേന്ദ്രത്തിൽ നിന്നും ഏതെങ്കിലും ഒരു ഭുജത്തിലേയ്ക്കുള്ള ലംബം വരയ്ക്കുക.

വൃത്തകേന്ദ്രത്തിൽ നിന്ന് ലംബം ഭുജത്തെ ഖണ്ഡിക്കുന്ന ബിന്ദുവിലേയ്ക്കുള്ള ദൂരമാണ് അന്തർവൃത്തത്തിന്റെ ആരം.

ആ ബിന്ദുവിനെ M എന്ന് രേഖപ്പെടുത്തുക. C കേന്ദ്രമായും CM ആരമായും ഒരു വൃത്തം വരച്ചാൽ അന്തർവൃത്തം ലഭിക്കുന്നു.

37. C കേന്ദ്രമായും 4 സെ.മീ ആരത്തിലുള്ള ഒരു വൃത്തം വരയ്ക്കുക.

[Back](#)



വൃത്തത്തിലെ ഒരു ആരമായ CP വരച്ച് അതിൽ 3.5 സെ.മീ അകലെ R അടയാളപ്പെടുത്തുക. R കേന്ദ്രമാക്കിയും C കേന്ദ്രമാക്കിയും ചാപങ്ങൾ വരയ്ക്കുക.

ചാപങ്ങളുടെ സംഗമബിന്ദുക്കൾ യോജിപ്പിക്കുക.

ഞാണിന്റെ നീളം അളന്നെഴുതുക.

38. സമചതുരസ്തുപികയുടെ പാദവിസ്തീർണ്ണം = 576 cm²

ഒരു വശം = $576 = 24\text{cm}$

ഉന്നതി = 5cm

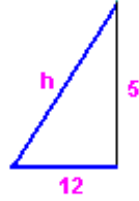
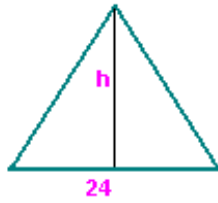
സമചതുരസ്തുപികയുടെ പാർശ്വവശങ്ങൾ സമപാർശ്വത്രികോണ ക്ഷേത്രങ്ങളാണ്.

സ്തുപികയുടെ പാദം ത്രികോണത്തിന്റെ ഒരു വശമാണ്

ഒരു പാർശ്വമുഖത്തിന്റെ പാദത്തിലേയ്ക്കുള്ള ലംബമാണ് പാർശ്വോന്നതി.

പാർശ്വോന്നതി, $1/2$ (പാദം), ഉന്നതി ഇവ ഒരു മട്ടത്രികോണം രൂപീകരിക്കുന്നു.

പാർശ്വോന്നതി h ആണെന്നിരിക്കട്ടെ



$$h^2 = 5^2 + 12^2 = 169$$

$$h = 13$$

$$\text{പാർശ്വമുഖവിസ്തീർണ്ണം} = 13$$

$$\text{പാർശ്വമുഖവിസ്തീർണ്ണം} = 13 \times 24/2 = 156\text{cm}^2$$

$$4 \text{ പാർശ്വമുഖങ്ങളുടെ വിസ്തീർണ്ണം} = 4 \times 156 = 624 \text{ cm}^2$$

$$1 \text{ m}^2 \text{ ന് ആവശ്യമുള്ള ക്യാൻവാസിന്റെ വില} = 26$$

$$\text{ആകെ വില} = \text{Rs. } 624 \times 26$$

$$= \text{Rs. } 16224$$

39.

ക്ലാസ്	മധ്യാങ്കം	ആവൃത്തി	$D = x - A$	fd
30 - 40	35	3	- 30	- 90
40 - 50	45	11	- 20	- 220
50 - 60	55	37	- 10	- 370
60 - 70	55	37	- 10	- 370
70 - 80	$A = 65$	26	0	0
80 - 90	85	8	20	160
90 - 100	95	1	30	30

$$A = 65$$

$$N = \Sigma f$$

$$= 3 + 11 + 37 + 26 + 14 + 8 = 1$$

$$= 100$$

$$\Sigma fd = - 90 + - 220 + - 370 + 0 + 140 + 160 + 30$$

[Back](#)

$$= -350$$

$$x = A + \frac{\sum fD}{N}$$

$$= 65 + \frac{-350}{100}$$

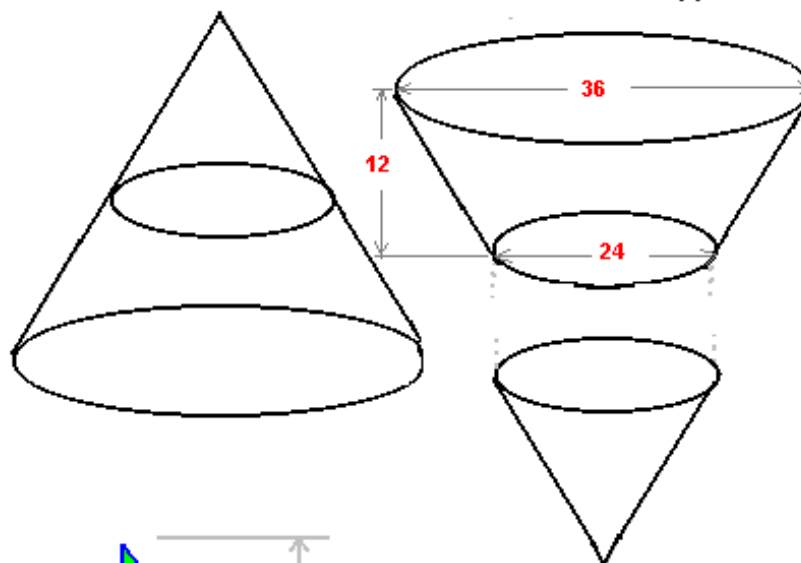
$$= 65 - 3.5$$

$$= 61.5$$

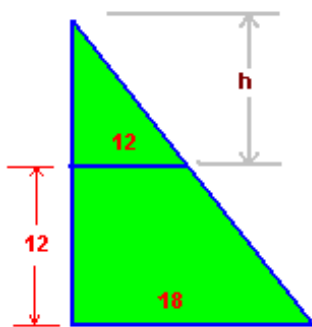
40. ഒരു വൃത്തസ്തൂപികയുടെ ആരം = 18 സെ.മീ

ചെറിയ വൃത്തസ്തൂപികയുടെ ആരം = 12 സെ.മീ

ചെറിയ വൃത്തസ്തൂപികയുടെ ഉന്നതി = h



[Back](#)



$$\frac{18}{12} = \frac{h + 12}{h}$$

[Back](#)

Back

$$\frac{3}{2} = \frac{h + 12}{h}$$

വലിയ വൃത്തസ്തുപികയുടെ ഉന്നതി = $24 + 12 = 36\text{cm}$

ചെറിയ വൃത്തസ്തുപികയുടെ ഉന്നതി = 24cm

തൊട്ടിയുടെ വ്യാപ്തം = വലിയ വൃത്തസ്തുപികയുടെ വ്യാപ്തം - ചെറിയ വൃത്തസ്തുപികയുടെ വ്യാപ്തം

$$\text{വലിയവൃത്തസ്തുപികയുടെ വ്യാപ്തം} = \frac{\pi \times 18 \times 18 \times 36}{3}$$

$$= 3888 \pi$$

$$\pi \times 12 \times 12 \times 24$$

$$\begin{aligned} \text{ചെറിയ വൃത്തസ്തുപികയുടെ വ്യാപ്തം} &= \frac{\pi \times 12 \times 12 \times 24}{3} \\ &= 1152 \pi \end{aligned}$$

$$\begin{aligned} \text{തൊട്ടിയുടെ വ്യാപ്തം} &= 3888 \pi - 1152 \pi \\ &= 2736 \pi \text{ cc.} \end{aligned}$$

Back



up