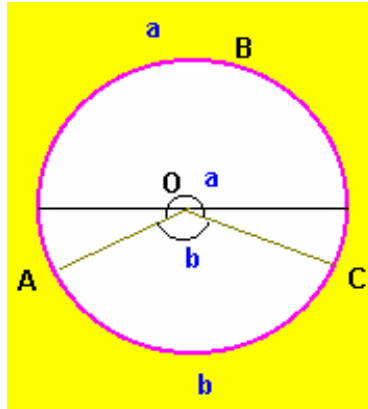


March 1998 Mathematics II - Answers

[Back](#)

1.



ദീർഘചാപം = ചാപം  $ABC = a$

എതിർചാപം = ലഘുചാപം  $AC = b$

ഒരു ദീർഘചാപം എല്ലായ്പ്പോഴും അർദ്ധവൃത്തത്തിനേക്കാൾ വലുതായിരിക്കും. അതിനാൽ ദീർഘചാപത്തിന്റെ അളവ്  $180^\circ$  യേക്കാൾ കൂടുതലായിരിക്കും.

$$a > 180^\circ$$

ചാപം  $ABC$  യുടെ അന്തഃഖണ്ഡചാപത്തിന്റെ അളവ് ചാപം  $AC$  യുടെ അന്തഃഖണ്ഡചാപത്തിന്റെ അളവിനേക്കാൾ കൂടുതലാണ്.

[Back](#)

$$a > b$$

ദീർഘചാപം + എതിർചാപം =  $360^\circ$

$$a + b = 360^\circ$$

$b$  യ്ക്ക് ഒരിക്കലും  $a$  യേക്കാൾ കൂടുതലാകാൻ സാധിക്കില്ല. അതിനാൽ ബ്രാക്കറ്റിൽ കൊടുത്തിരിക്കുന്നവയിൽ ശരിയല്ലാത്തത്  $a < b$  ആണ്.

2.

ഒരു വർഷത്തെ ആകെ മരണം

$$CDR = \frac{\text{ആ വർഷത്തിന്റെ മധ്യത്തിലുള്ള ജനസംഖ്യ}}{\text{ആ വർഷത്തെ ആകെ മരണം}} \times 1000$$

$$\text{ശരിയായ ഉത്തരം} = (P/Q) \times 1000$$

3

$$\text{ആരം} = r$$

$$\text{ഉന്നതി} = 2r$$

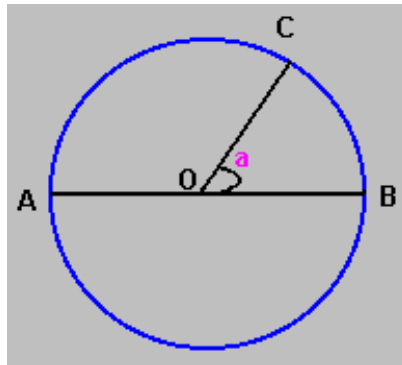
$$\text{പാർശ്വാനതി} = \sqrt{r^2 + (2r)^2}$$

[Back](#)

[Back](#)

$$\begin{aligned} &= \sqrt{r^2 + 4r^2} \\ &= \sqrt{5r^2} \\ &= \sqrt{5} r \end{aligned}$$

4.



$$\angle BOC = a$$

$$\text{ചുറ്റം } BC = a$$

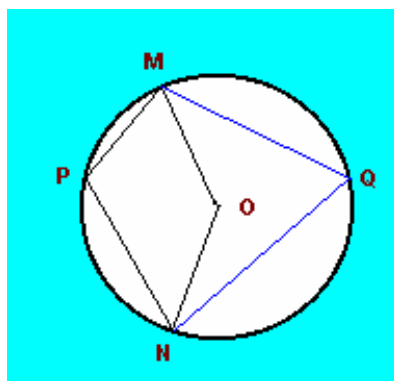
$$\text{ചുറ്റം } ABC = \text{ചുറ്റം } AB + \text{ചുറ്റം } BC$$

$$= 180^\circ + a$$

[Back](#)

$$\text{ശരിയായ ഉത്തരം} = a + 180$$

5.



$$\text{ചുറ്റം } MPN = \angle MON$$

$$\angle MON = 2 \angle MQN$$

(അന്തഃഖണ്ഡചാപത്തിന്റെ അളവ് =  $2 \times$  അന്തർലേഖനം ചെയ്തിട്ടുള്ള കോണിന്റെ അളവ്)

[Back](#)

[Back](#)

$MQN = 180 - MPN$  ( ചക്രിയചതുർഭുജത്തിന്റെ എതിർശീർഷകോണുകൾ അനുപൂരകങ്ങളാണ് )

$$= 180 - 110$$

$$= 70$$

$$MON = 2 \times 70$$

$$= 140$$

ചാപം  $MPN = 140^\circ$

6.  $1 - \sin^2 A = \cos^2 A.$

$$\sqrt{1 - \sin^2 A} = \sqrt{\cos^2 A}.$$

$$= \cos A.$$

ശരിയായ ഉത്തരം =  $\sin A$

7.

$$\text{മധ്യരേഖ} = \frac{(\text{ഉച്ചവരിധി} + \text{നീചവരിധി})}{2}$$

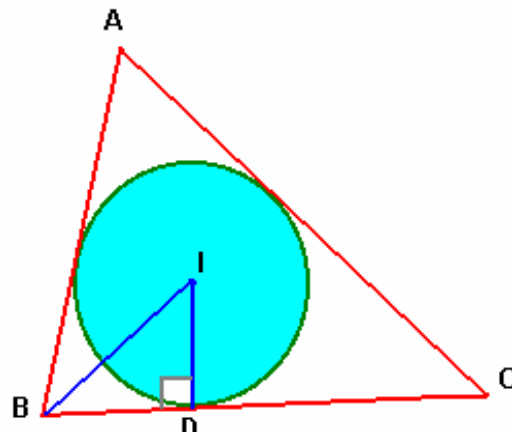
$$= \frac{(40 + 44)}{2}$$

$$= 84/2$$

$$= 42$$

ശരിയായ ഉത്തരം = 42

8. ചിത്രം നോക്കുക



[Back](#)

[Back](#)

ഇവിടെ  $BDI = 90^\circ$

$$IBD = \frac{ABC}{2}$$

$$= \frac{a}{2}$$

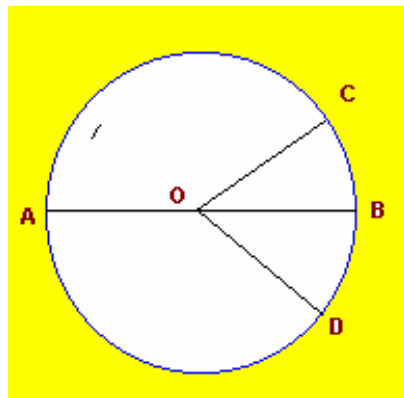
$$BID = 180 - (BDI + IBD)$$

$$= 180 - (90 + \frac{a}{2})$$

$$= 180 - 90 - \frac{a}{2}$$

$$= 90 - \frac{a}{2}$$

9. ചാപം CAD യുടെ ഡിഗ്രി അളവ് =  $360 - \angle COD$



$$= 360 - (\angle BOC + \angle BOD)$$

[Back](#)

$$= 360 - (a + b)$$

10. പാദത്തിന്റെ വികർണ്ണത്തിന്റെ നീളം = 6 cm

$$a = \text{വശം} = \frac{6}{2 \times 2}$$

പാർശ്വവക്കിന്റെ നീളം = 5 cm

പാർശ്വോന്നതി | ആയാൽ,

$$l^2 = 5^2 - \left[ \frac{6}{2 \times 2} \right]^2$$

$$= 5^2 - \frac{6^2}{4 \times 2}$$

[Back](#)

[Back](#)

$$= 5^2 - \frac{6^2}{8}$$

$$\text{ഉന്നതം } h = \sqrt{l^2 - (a/2)^2}$$

$$= \sqrt{5^2 - 6^2/8 - (6/2/2)^2}$$

$$= \sqrt{5^2 - 6^2/8 - 6^2/8}$$

$$= \frac{(5^2 \times 8 - 6^2 - 6^2)}{8}$$

$$= \frac{(5^2 \times 8 - 2 \times 6^2)}{8}$$

$$= \frac{(5^2 \times 4 - 6^2)}{4}$$

$$= \frac{(100 - 36)}{4}$$

$$= \frac{64}{4}$$

$$= 16$$

$$= 4$$

[Back](#)

11.  $\sin(90 - A) \cdot \sec(90 - A)$

$$= \cos A \cdot \operatorname{cosec} A$$

$$= \cos A \cdot \frac{1}{\sin A}$$

$$= \cot A$$

12.  $\operatorname{cosec} A \cdot \tan A$

$$= \frac{1}{\sin A} \cdot \frac{\sin A}{\cos A}$$

$$= \sec A$$

13.  $\cot A \cdot \sin A$

$$= \frac{\cos A}{\sin A} \cdot \sin A$$

[Back](#)

[Back](#)

$$= \cos A$$

14.  $\operatorname{Cosec}(90 - A) \cdot \tan(90 - A)$

$$= \sec A \cdot \cot A$$

$$= \frac{1}{\cos A} \cdot \frac{\cos A}{\sin A}$$

$$= \operatorname{Cosec} A$$

15. പാദവക്കിന്റെ നീളം = a

$$\text{പാദവക്കിന്റെ ആകെ നീളം} = 4a$$

$$\text{പാർശ്വവക്കിന്റെ നീളം} = b$$

$$\text{പാർശ്വവക്കുകളുടെ ആകെ നീളം} = 4b$$

$$\text{എല്ലാവക്കുകളുടെയും ആകെ നീളം} = 4a + 4b$$

$$= 4(a + b)$$

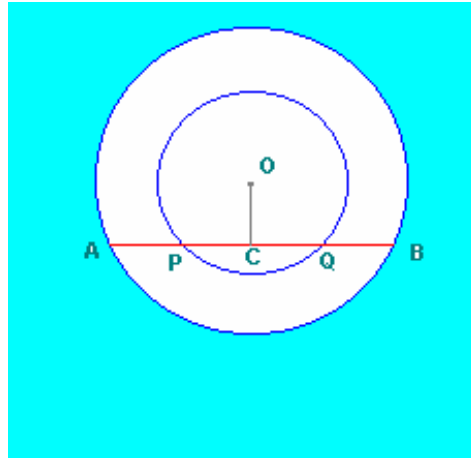
[Back](#)

16.

$$\begin{aligned} \frac{\sec 15}{\operatorname{Cosec} 75} &= \frac{(1/\cos 15)}{(1/\sin 75)} \\ &= \frac{\sin 75}{\cos(90 - 75)} \\ &= \frac{\sin 75}{\sin 75} \\ &= 1 \end{aligned}$$

[Back](#)

17. ചിത്രം നോക്കുക.



OC  $\perp$  AB

AB യുടെ മധ്യബിന്ദുവാണ് C. ഞാൻ PQ വിന്ദുയും മധ്യബിന്ദുവാണ് C.

$$AC = \frac{AB}{2}$$

$$PC = \frac{PQ}{2}$$

$$AP = AC - PC$$

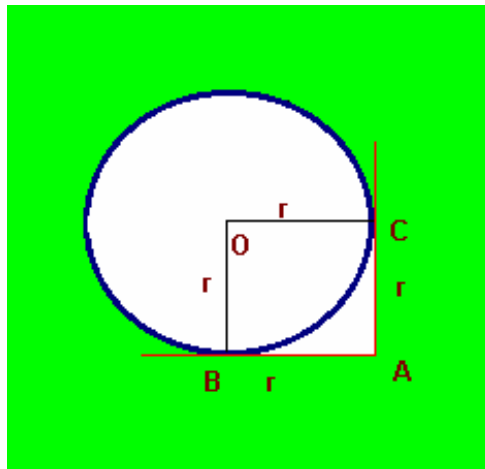
$$= \frac{AB}{2} - \frac{PQ}{2}$$

$$= \frac{AB - PQ}{2}$$

$$= \frac{20 - 8}{2}$$

$$= 6 \text{ cm}$$

18. ചിത്രം നോക്കുക.



$OB \perp AB, OC \perp AC.$

സ്പർശരേഖാഖണ്ഡത്തിന്റെ നീളം = വൃത്തത്തിന്റെ ആരം

$$OB = AB$$

$$OC = AC$$

ത്രികോണം OBA ഒരു സമപാർശ്വത്രികോണമാണ്.

$$\angle BOA = \angle OAB$$

$$\angle OBA = 90^\circ$$

$$\angle BOA + \angle OAB = 180 - 90$$

$$= 90$$

$$\angle BOA = \angle OAB$$

$$= 90/2$$

$$= 45^\circ$$

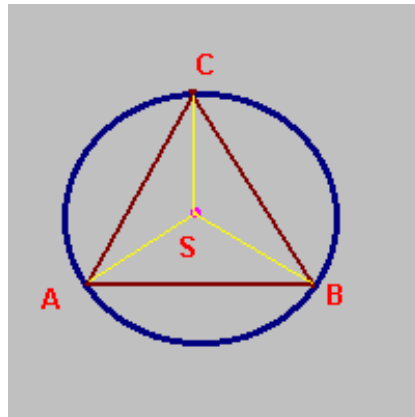
$$\angle COA = 45^\circ$$

$$\text{i.e., } \angle BOC = \angle BOA + \angle COA$$

$$= 45 + 45$$

$$= 90^\circ$$

19. ചിത്രം നോക്കുക



ചാപം AB യിൽ അന്തർലേഖനം ചെയ്തിരിക്കുന്ന കോണാണ് ACB

ASB യുടെ അന്തഃഖണ്ഡചാപമാണ് ചാപം AB.

$$ACB = \frac{1}{2} ASB$$

$$ASB = 360 - (110 + 96)$$

$$= 360 - 206$$

$$= 154$$

$$ACB = 154/2$$

$$= 77^\circ$$

20. അഭ്യുഹമായും = a

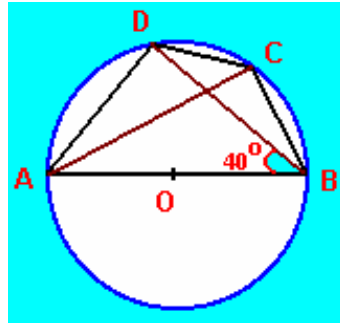
പ്രാപ്താങ്കങ്ങളുടെ എണ്ണം = n

a യിൽ നിന്നുള്ള പ്രാപ്താങ്കങ്ങളുടെ വ്യതിയാനങ്ങളുടെ തുക = d

$$\text{മായും} = a + \frac{d}{n}$$

21. ചിത്രം നോക്കുക

[Back](#)



$$BCD = BCA + ACD$$

$$BCA = 90^{\circ} \text{ ( AB വൃത്തത്തിന്റെ വ്യാസം ആണ് )}$$

$$ACD = ABD$$

$$= 40^{\circ}$$

(ഒരേ ചാപത്തിൽ അന്തർലേഖനം ചെയ്തിരിക്കുന്ന കോണുകൾ തുല്യ അളവുള്ളവയായിരിക്കും)

$$BCD = BCA + ACD$$

$$= 90 + 40$$

$$= 130^{\circ}$$

[Back](#)

22. പൈപ്പിന്റെ വ്യാപ്തം = പാദവിസ്തീർണ്ണം  $\times$  ഉന്നതി

$$= \text{അഗ്രമുഖവിസ്തീർണ്ണം} \times \text{ഉന്നതി}$$

$$= 120 \times 50$$

$$= 6000 \text{ cc}$$

23.  $r$  ആരം ഉള്ള ഒരു അർദ്ധഗോളത്തിന്റെ ഉപരിതല വിസ്തീർണ്ണം =  $3 r^2$

$$3 r^2 = 942$$

$$r^2 = 942/3$$

$$= 314$$

$$r^2 = 314 /$$

[Back](#)

[Back](#)

$$= 314 / 3.14$$

$$= 100$$

$$r = 10$$

$$\text{വ്യാസം} = 2 \times r$$

$$= 2 \times 10$$

$$= 20 \text{ cm.}$$

24. പ്രാവ്താകങ്ങൾ = 44, 45, 42, 43, 46, 41

അഭ്യുഹമാധ്യം  $A = 42$

പ്രാവ്താകങ്ങൾ

$D = X - A$

44	2
45	3
42 = A	0
43	1
46	4
41	- 1

$$D = 2 + 3 + 0 + 1 + 4 + - 1$$

$$= 9$$

$$n = 6$$

[Back](#)

$$\text{മാധ്യം} = A + D / n$$

$$= 42 + 9 / 6$$

$$= 42 + 1.5$$

$$= 43.5$$

25.  $AB = 12 \text{ cm}$

$BC = 18 \text{ cm}$

$$B = 50^\circ$$

$$\text{വിസ്തീർണ്ണം} = \frac{1}{2} AB \times BC \times \sin 50 \quad [\sin 50 = 0.7660]$$

[Back](#)

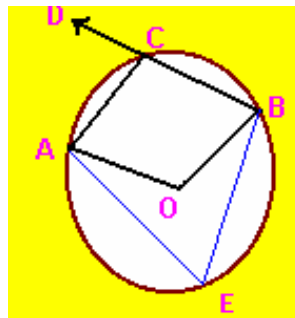
$$\begin{aligned} &= \frac{12 \times 18 \times 0.7660}{2} \\ &= 82.728 \end{aligned}$$

26.

$$\begin{aligned} \frac{1}{\sin^2 A} - \frac{1}{\tan^2 A} &= \frac{1}{\sin^2 A} - \frac{1}{(\sin^2 A / \cos^2 A)} \\ &= \frac{1}{\sin^2 A} - \frac{\cos^2 A}{\sin^2 A} \\ &= \frac{1 - \cos^2 A}{\sin^2 A} \\ &= \frac{\sin^2 A}{\sin^2 A} \\ &= 1 \end{aligned}$$

[Back](#)

27.



$$\angle ACD = 80^\circ,$$

$$\begin{aligned} \angle ACB &= 180 - 80 \\ &= 100^\circ \end{aligned}$$

$$\begin{aligned} \angle AEB &= 180 - \angle ACB \\ &= 180 - 100 \end{aligned}$$

[Back](#)

Back

$$= 80^\circ \text{ (ചക്രീയ ചതുർഭുജത്തിന്റെ ഏതിർശീർഷ കോണുകൾ)}$$

ചാപം  $\text{ACB} = \text{ചാപം ACB}$  യുടെ അനുബന്ധചാപത്തിന്റെ അളവ്

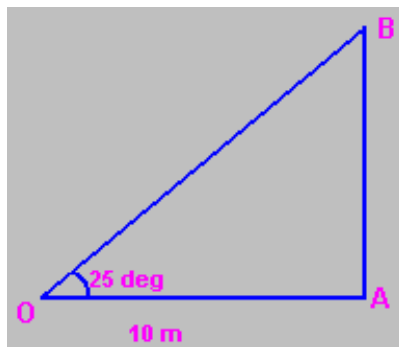
$$= \text{AOB}$$

$$= 2 \times \text{AEB}$$

$$= 2 \times 80$$

$$= 160^\circ$$

28. ചിത്രം നോക്കുക



ഇലക്ട്രിക് പോസ്റ്റ് AB യാണെന്ന് സങ്കല്പിക്കുക

$$\text{AO} = 10 \text{ m.}$$

$$\text{AB} / \text{AO} = \text{Tan } 25$$

$$\text{AB} = \text{AO} \times \text{Tan } 25$$

$$= 10 \times .4663$$

$$= 4.663 \text{ m.}$$

ഇലക്ട്രിക് പോസ്റ്റിന്റെ ഉയരം = 4.663 m

29. ഗോളത്തിന്റെ ആരം =  $18 / 2$

$$= 9 \text{ cm}$$

ഗോളത്തിന്റെ വ്യാപ്തം =  $4 / 3 \text{ r}^3$

Back

Back

$$= 9 \times 9 \times 3 \times 4$$

$$\text{വൃത്തസ്തുപികയുടെ ആരം} = 24 / 2$$

$$= 12 \text{ cm}$$

$$\text{വൃത്തസ്തുപികയുടെ ഉന്നതി} = h \text{ cm}$$

$$\text{വൃത്തസ്തുപികയുടെ വ്യാപ്തം} = \frac{1}{3} r^2$$

$$= \frac{1}{3} \times 12 \times 12 \times h$$

$$\text{വൃത്തസ്തുപികയുടെ വ്യാപ്തം} = \text{ഗോളത്തിന്റെ വ്യാപ്തം}$$

$$\frac{1}{3} \times 12 \times 12 \times h = 9 \times 9 \times 3 \times 4$$

$$h = 20.25 \text{ cm}$$

Back

30. അടിസ്ഥാന വർഷത്തിലെ വില = P<sub>0</sub>

നടപ്പുവർഷത്തെ വില = P<sub>1</sub>

ഉൽപ്പന്നം	1995 ലെ വില P <sub>0</sub>	1997 ലെ വില P <sub>1</sub>
തേയില	64.50	98.50
പഞ്ചസാര	12.50	15.50
അരി	10.50	14.50
വെളിച്ചെണ്ണ	52.50	58.50

$$P_0 = 64.50 + 12.50 + 10.50 + 52.50$$

$$= 140$$

$$P_1 = 98.50 + 15.50 + 14.50 + 58.50$$

$$= 187$$

$$\text{വിലനിലവാര സൂചിക} = \frac{(P_1)}{(P_0)} \times 100$$

$$= (187 / 140) \times 100$$

$$= 1.3357 \times 100$$

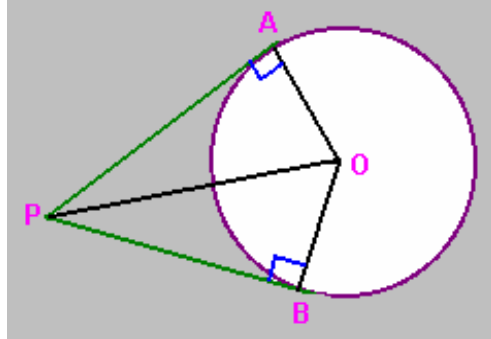
Back

$$= 133.57$$

[Back](#)

$$= 134$$

31.



സങ്കല്പം

O കേന്ദ്രമായ വൃത്തത്തിന്റെ ബഹിർഭാഗത്തുള്ള ഒരു ബിന്ദുവാണ് P. PA ,PB എന്നിവ സ്പർശരേഖാഖണ്ഡങ്ങളാണ്.

അനുമാനം

$$\angle PAO = 90^\circ$$

$$\angle PBO = 90^\circ$$

$$OA = OB$$

$$OP = OP$$

[Back](#)

$$OP = OP , OA = OB$$

$$\triangle AOP \cong \triangle OBP$$

$$PA = PB$$

തെളിവ്

പ്രസ്താവന

കാരണം

- |  |   |
|--|---|
| 1. $\angle A = \angle B$   | (ഒരു സ്പർശരേഖയും സ്പർശബിന്ദു ഉൾപ്പെടുന്ന ആരവും പരസ്പരം ലംബങ്ങളാണ്.) |
| 2. $\triangle OAP \cong \triangle OBP$<br>എന്നിവ മട്ടത്രികോണങ്ങളാണ്. | (പ്രസ്താവന 1, മട്ടത്രികോണത്തിന്റെ നിർവ്വചനം)                        |
| 3. $PO = PO$   | (അനന്യസർവസമത)   |
| 4. $OA = OB$   | (ഒരേ വൃത്തത്തിന്റെ ആരങ്ങൾ)  |
| 5. $\triangle AOP \cong \triangle OBP$                               | (പ്രസ്താവന 2, 3, 4. RHS സിദ്ധാന്തം)                                 |

[Back](#)

[Back](#)

6.  $PA = PB$  (സർവ്വസമത്രികോണങ്ങളുടെ സമാന ഭാഗങ്ങളുടെ അളവുകൾ)

32.

പ്രായപരിധി	ASDR( $R_x$ )	( $S_x$ )
15 ന് താഴെ	12	24000
15 - 30	9	56000
30 ന് മുകളിൽ	30	58000

$$S_x R_x = 288000 + 504000 + 1740000$$

$$= 2532000$$

$$S_x = 24000 + 56000 + 58000$$

$$= 138000$$

$$SDR = S_x R_x / S_x$$

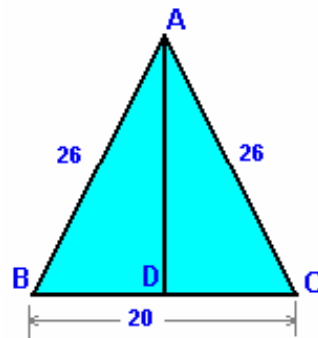
$$= 2532000 / 138000$$

$$= 18.347$$

[Back](#)

$$= 18$$

33.



സമചതുര സ്പർശികയുടെ പാർശ്വവക്കിന്റെ നീളം = 26 cm

പാദവക്കിന്റെ നീളം = 20 cm

പാർശ്വതല വിസ്തീർണ്ണം =  $4 \times$  ത്രികോണത്തിന്റെ വിസ്തീർണ്ണം

ത്രികോണത്തിന്റെ വിസ്തീർണ്ണം =  $(BC \times AD) / 2$

$$BD = 10$$

$$AD = \sqrt{(26^2 - 10^2)}$$

[Back](#)

$$= \frac{[(26 + 10)(26 - 10)]}{2}$$

$$= \frac{(36 \times 16)}{2}$$

$$= 6 \times 4$$

$$= 24$$

$$\text{വിസ്തീർണ്ണം} = \frac{24 \times 20}{2}$$

$$= 240$$

$$\text{പാർശ്വതല വിസ്തീർണ്ണം} = 4 \times 240$$

$$= 960 \text{ cm}^2$$

34. സിലിൻഡർ ആകൃതിയിലുള്ള ഈയക്കമ്പിയുടെ ആരം = r cm

$$\text{നീളം, } h = 4 \times \text{ആരം}$$

$$= 4r$$

ഈയക്കമ്പിയുടെ വ്യാപ്തം

$$= r^2 \times h$$

$$= r^2 \times 4r$$

$$= 4 r^3$$

$$\text{ഗോളത്തിന്റെ ആരം} = r$$

$$\text{ഗോളത്തിന്റെ വ്യാപ്തം} = \frac{4}{3} r^3$$

$$\text{ഗോളങ്ങളുടെ എണ്ണം} = \frac{\text{സിലിൻഡറിന്റെ വ്യാപ്തം}}{\text{ഗോളത്തിന്റെ വ്യാപ്തം}}$$

$$= \frac{4 r^3}{\frac{4}{3} r^3}$$

$$= 3$$

35.  $\text{Cosec}^2 A(1 + \tan^2 A) - \text{Sec}^2 A$

[Back](#)

$$= \text{Cosec}^2 A \times \text{Sec}^2 A - \text{Sec}^2 A$$

$$= \text{Sec}^2 A(\text{Cosec}^2 A - 1)$$

$$= \text{Sec}^2 A \times \text{Cot}^2 A$$

$$= (1/\text{Cos}^2 A) \times (\text{Cos}^2 A/\text{Sin}^2 A)$$

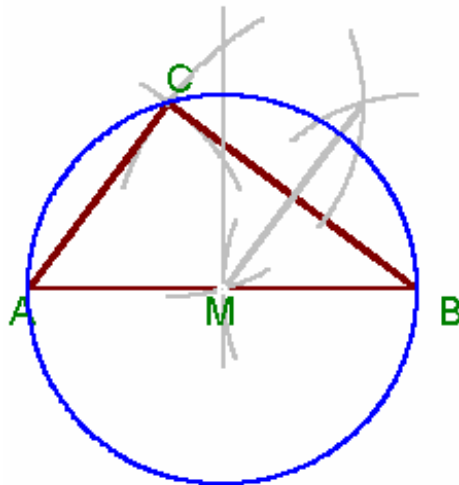
$$= 1/\text{Sin}^2 A$$

$$= \text{Cosec}^2 A.$$

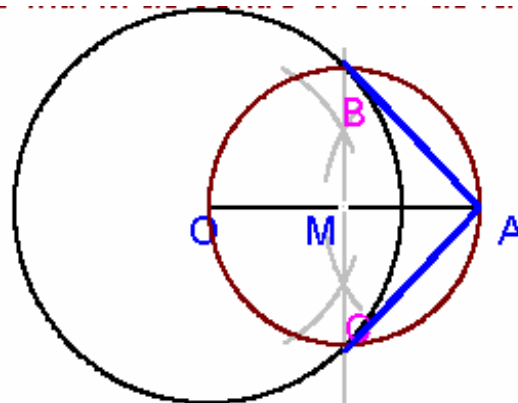
36.  $AB = 10$  സെ.മീ. വരയ്ക്കുക.  $B$  യിൽ നിന്ന്  $8$  സെ.മീ നീളത്തിലും  $A$  യിൽ നിന്ന്  $6$  സെ.മീ നീളത്തിലും ചാപം വരച്ച് അവയുടെ സംഗമബിന്ദുവിനെ  $C$  എന്ന് രേഖപ്പെടുത്തുക.  $AC, BC$  ഇവ യോജിപ്പിക്കുക.

$AB$  യുടെയും  $BC$  യുടെയും സമഭാജി വരച്ച് അവയുടെ സംഗമബിന്ദുവിനെ  $M$  എന്ന് രേഖപ്പെടുത്തുക.  $M$  കേന്ദ്രമാക്കി  $BM$  ആരത്തിൽ ഒരു വൃത്തം വരയ്ക്കുക.

ആരം =  $5$  cm



37.



[Back](#)

[Back](#)

O കേന്ദ്രമായി 4 cm ആരത്തിൽ ഒരു വൃത്തം വരയ്ക്കുക. കേന്ദ്രത്തിൽ നിന്നും

6.5 സെ.മീ അകലെ A എന്ന ബിന്ദു രേഖപ്പെടുത്തുക. OA യുടെ മദ്ധ്യ

ലംബം വരയ്ക്കുക. ലംബം OA യിൽ കൂട്ടിമുട്ടുന്ന ബിന്ദുവിനെ M എന്ന

രേഖപ്പെടുത്തുക. M കേന്ദ്രമായി വരത്തക്കവിധത്തിൽ OM ആരത്തിൽ ഒരു

വൃത്തം വരയ്ക്കുക. O കേന്ദ്രമായിട്ടുള്ള വൃത്തവും M കേന്ദ്രമായിട്ടുള്ള

വൃത്തവും കൂട്ടിമുട്ടുന്ന ബിന്ദുക്കളെ B എന്നും C എന്നും രേഖപ്പെടുത്തുക

AB, AC ഇവ യോജിപ്പിക്കുക. ഇവയാണ് O കേന്ദ്രമായിട്ടുള്ള വൃത്തത്തി

ലേയ്ക്കുള്ള സ്പർശരേഖാഖണ്ഡങ്ങൾ.

$$AB = AC = 5 \text{ സെ.മീ}$$

38. സമചതുര സ്തുപികയുടെ പാർശ്വതല വിസ്തീർണ്ണം = 1776 cm<sup>2</sup>

$$\text{പാർശ്വ മുഖങ്ങളുടെ എണ്ണം} = 4$$

$$\text{പാദവക്} = 24 \text{ cm}$$

$$\text{ഒരു പാർശ്വമുഖത്തിന്റെ വിസ്തീർണ്ണം} = 1776 / 4$$

$$= 444 \text{ cm}^2$$

[Back](#)

$$\text{പാർശ്വമുഖത്തിന്റെ നീളം} = \frac{\text{പാർശ്വതലം} \times \text{പാദവക്}}{2}$$

$$\text{പാർശ്വതലം} = \frac{2 \times \text{ഒരു പാർശ്വമുഖത്തിന്റെ വിസ്തീർണ്ണം}}{\text{പാദവക്}}$$

$$= \frac{2 \times 444}{24}$$

$$= 37 \text{ cm.}$$

പാർശ്വതലം, ഉന്നതി, പാദവക്കിന്റെ പകുതി ഇവ ചേർന്നാൽ ഒരു മട്ടത്രി

കോണം ലഭിക്കും. അതിന്റെ കർണ്ണം പാർശ്വതലമായിരിക്കും.

$$(\text{ഉന്നതി})^2 = (\text{പാർശ്വതലം})^2 - (\text{പാദവക്കിന്റെ പകുതി})^2$$

[Back](#)

[Back](#)

$$= 37^2 - 12^2$$

$$\begin{aligned} \text{ഉന്നതി} &= \sqrt{37^2 - 12^2} \\ &= \sqrt{(37 + 12)(37 - 12)} \\ &= \sqrt{49 \times 25} \\ &= 7 \times 5 \\ &= 35 \text{ cm.} \end{aligned}$$

$$\begin{aligned} \text{വ്യാപ്തം} &= (1/3) \times \text{പാദവിസ്തീർണ്ണം} \times \text{ഉന്നതി} \\ &= (1/3) \times 24 \times 24 \times 35 \\ &= 6720 \text{ cc.} \end{aligned}$$

39.

ക്ലാസ്പരിധി	മധ്യാങ്കം x	ആവൃത്തി f	D	fD
0 - 20	10	3	- 40	- 120
20 - 40	30	8	- 20	- 160
40 - 60	50	17	0	0
60 - 80	70	7	20	140
80 - 100	90	3	40	120
100 - 120	110	2	60	120

$$\text{മാധ്യം, } \bar{x} = A + fD / N$$

[Back](#)

$$A = 50$$

$$N = 3 + 8 + 17 + 7 + 3 + 2$$

$$= 40$$

$$fD = - 120 + - 160 + 140 + 120 + 120$$

$$= 100$$

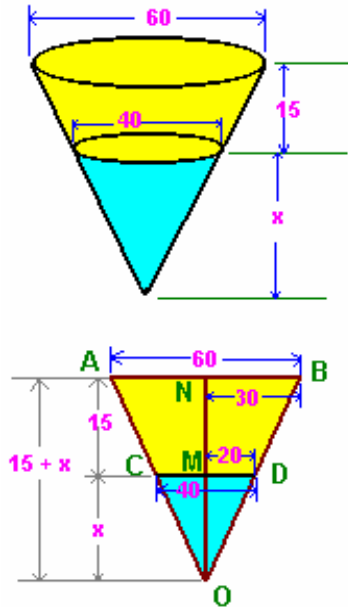
$$\bar{x} = 50 + 100/40$$

$$= 50 + 2.5$$

= 52.5

[Back](#)

40. ചിത്രം നോക്കുക



CD എന്ന വൃത്തസ്തൂപിക മുറിച്ചു മാറ്റുമ്പോഴാണ് ABDC എന്ന വൃത്തസ്തൂപികാ പീഠം ലഭിക്കുന്നത്.

വലിയ വൃത്തസ്തൂപികയുടെ വ്യാസം = AB = 60

ആരം = 30

ചെറിയ വൃത്തസ്തൂപികയുടെ വ്യാസം = 40

ആരം MD = 20

മുറിച്ചു മാറ്റിയ വൃത്തസ്തൂപികയുടെ ഉയരം = x

ചെറിയ വൃത്തസ്തൂപികയുടെ ഉയരം, OM = x

വലിയ വൃത്തസ്തൂപികയുടെ ഉയരം, ON = 15 + x

OBN, ODM ഇവ പരിഗണിക്കുക.

$$\frac{BN}{MD} = \frac{ON}{OM}$$

$$\frac{30}{20} = \frac{15 + x}{x}$$

[Back](#)

$$10x = 15 \times 20$$

[Back](#)

$$x = 30$$

$$\text{ചെറിയ വൃത്തസ്തുപികയുടെ ഉയരം} = 30 \text{ cm}$$

$$\begin{aligned} \text{വലിയ വൃത്തസ്തുപികയുടെ ഉയരം} &= 30 + 15 \\ &= 45 \text{ cm} \end{aligned}$$

$$\text{തൊട്ടിയുടെ വ്യാപ്തം} = \text{വൃത്തസ്തുപികാ പീഠത്തിന്റെ വ്യാപ്തം}$$

$$= \text{വലിയ വൃത്തസ്തുപികയുടെ വ്യാപ്തം} - \text{ചെറിയ വൃത്തസ്തുപികയുടെ വ്യാപ്തം}$$

$$= \frac{1}{3} \times 30 \times 30 \times 45 - \frac{1}{3} \times 20 \times 20 \times 30$$

$$= 13500 - 4000$$

$$= 9500$$

$$= 29830$$

$$\text{തൊട്ടിയുടെ വ്യാപ്തം} = 29.83 \text{ ലിറ്റർ}$$

[Back](#)

-----

[up](#)