

## March 1995 paper Mathematics II – Answers

[Back](#)

1. വക്കുകളുടെ ആകെ എണ്ണം 8 ആണെന്ന് തന്നിട്ടുണ്ട്.

വക്കുകളുടെ എണ്ണം = പാദവക്കുകളുടെ എണ്ണം + പാർശ്വവക്കുകളുടെ എണ്ണം

ഒരു സ്തുപികയുടെ പാർശ്വവക്കുകളുടെ എണ്ണവും പാദവക്കുകളുടെ എണ്ണവും തുല്യമായിരിക്കും.

$$\begin{aligned} \text{പാദവക്കുകളുടെ എണ്ണം} &= \frac{\text{ആകെ വക്കുകളുടെ എണ്ണം}}{2} \\ &= 4 \end{aligned}$$

∴ മുഖങ്ങളുടെ എണ്ണം = 5

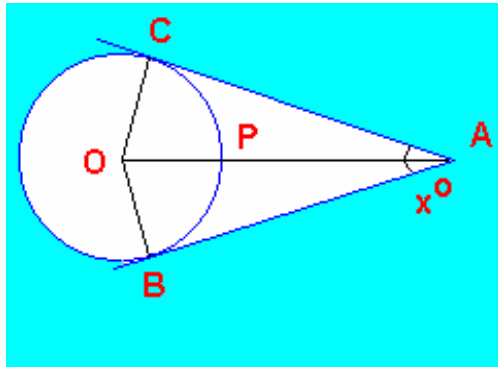
2.  $\sin(90 - A) = \cos A$  ആണെന്ന് നമുക്കറിയാം.

$$\begin{aligned} \frac{\sin(90 - A)}{\sin A} &= \frac{\cos A}{\sin A} \\ &= \cot A \end{aligned}$$

[Back](#)

∴ ശരിയായ ഉത്തരം = **Cot A**

3. ചിത്രം ശ്രദ്ധിക്കുക



ചാപം BPC യുടെ അളവ് =  $\angle BOC$

$$\angle BOC = \angle AOC + \angle AOB$$

$$\angle AOC = 180 - (\angle ACO + \angle OAC)$$

$$= 180 - (90 + x/2)$$

$$\angle AOB = 180 - (\angle ABO + \angle OAB)$$

$$= 180 - (90 + x/2)$$

[Back](#)

Back

$$= 90 - x/2$$

$$\angle BOC = \angle AOC + \angle AOB$$

$$= 90 - x/2 + 90 - x / 2$$

$$= 180 - x$$

∴ ചോദ്യം **BPC = 180 - x**

4. അഭ്യൂഹമാധ്യം, A = 16

പ്രാവീണ്യങ്ങളുടെ എണ്ണം, n = 5

$$\Sigma D = -15$$

$$\text{മാധ്യം, } \bar{x} = A + \Sigma D/n$$

$$= 16 + (-15/5)$$

$$= 16 - 3$$

$$= 13$$

Back

5. അടിസ്ഥാനവർഷത്തെ വില, P<sub>0</sub> = 24

നടപ്പുവർഷത്തെ വില, P<sub>1</sub> = 33.60

$$\text{വിലസൂചിക} = \frac{\text{നടപ്പുവർഷത്തെ വില}}{\text{അടിസ്ഥാനവർഷത്തിലെ വില}} \times 100$$

$$= \frac{33.60 \times 100}{24}$$

6. ബാഹ്യആരം = R

$$\text{ബാഹ്യവ്യാസം} = 2R$$

$$\text{നീളം} = \text{ബാഹ്യവ്യാസം}$$

$$= 2R$$

$$\text{ബാഹ്യവക്രതലവിസ്തീർണ്ണം} = \text{ബാഹ്യചുറ്റളവ്} \times \text{നീളം}$$

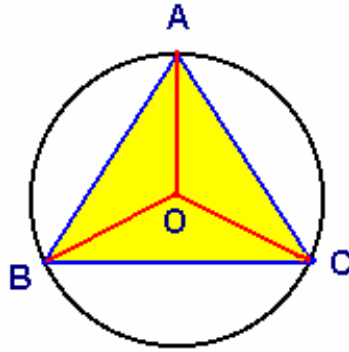
$$= 2 \Pi R \times 2R$$

$$= 4 \Pi R^2$$

Back

[Back](#)

7.



$\angle AOB = 2 \times \angle ACB$  (അനുഖണ്ഡചാപം =  $2 \times$  അന്തർലിഖിതകോൺ)

ചാപം AB യുടെ അന്തർലിഖിതകോണാണ്  $\angle ACB$ .

$$\angle ACB = 180 - (\angle BAC + \angle ABC)$$

$$= 180 - (60 + 50)$$

$$= 180 - 110$$

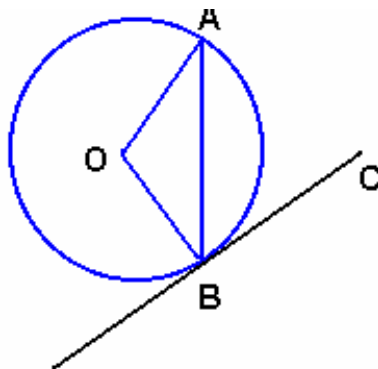
$$= 70^\circ$$

$$\therefore \angle AOB = 2 \times 70$$

$$= 140^\circ$$

[Back](#)

8.



$\angle OAB = \angle OBA$  [ ത്രികോണം AOB യിൽ  $OA = OB$ . ആണ് ]

[Back](#)

[Back](#)

$$\angle OBA = \angle OBC - \angle ABC$$

$$= 90 - 70 \quad [\angle OBC, \text{ സ്പർശരേഖയും ആരവും തമ്മിലുള്ള കോണാണ്}]$$
$$= 20^\circ$$

$$\therefore \angle OAB = \angle OBA = 20^\circ$$

9. സമചതുരസ്തുപികയുടെ പാദവിസ്തീർണ്ണം =  $100 \text{ cm}^2$

$$\text{പാദവശം} = \sqrt{100}$$

$$= 10 \text{ cm.}$$

$\therefore$  ഒരു പാർശ്വവക് =  $10 \text{ cm}$

പാർശ്വ വക്സിന്റെ നീളം = പാദവക്സിന്റെ നീളം

ഒരു സമചതുരസ്തുപികയ്ക്ക് 4 പാർശ്വമുഖങ്ങളുണ്ട്. പാർശ്വമുഖങ്ങളെല്ലാം സമഭുജ ത്രികോണക്ഷേത്രങ്ങളായതിനാൽ, സമചതുരസ്തുപികയ്ക്ക് 4 സമഭുജ ത്രികോണങ്ങളുണ്ടായിരിക്കും.

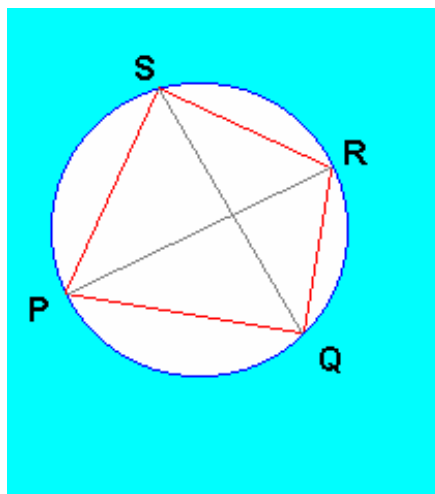
ആകെ വക്സുകളുടെ എണ്ണം = 8.

വക്സുകളുടെ ആകെനീളം =  $8 \times 10$

$$= 80 \text{ cm}$$

[Back](#)

10. PQRS ഒരു ചക്രിയചതുർഭുജമാണ്



ചാപം PS ൽ അന്തർലേഖനം ചെയ്തിരിക്കുന്ന കോണാണ്  $\angle PQS$ .

[Back](#)

[Back](#)

അതുപോലെ ചാപം PS ൽ അന്തർലേഖനം ചെയ്തിരിക്കുന്ന മറ്റൊരു കോണാണ്  $\angle PRS$ .

ഒരേ ചാപത്തിൽ അന്തർലേഖനം ചെയ്തിരിക്കുന്ന കോണുകൾ തുല്യമായതിനാൽ,

$$\angle PQS = \angle PRS$$

$$\begin{aligned} 11. \quad & \sin 30 \times \cos 60 + \cos 30 \times \sin 60 \\ &= \sin 30 \times \cos (90 - 30) + \cos 30 \times \sin (90 - 30) \\ &= \sin 30 \times \sin 30 + \cos 30 \times \cos 30 \\ &= \sin^2 30 + \cos^2 30 \\ &= 1 \quad (\sin^2 A + \cos^2 A = 1) \end{aligned}$$

$$12. \quad \text{വൃത്തസ്തുപികയുടെ വക്രതലവിസ്തീർണ്ണം} = 30\pi$$

$$\pi r l = 30\pi$$

$$\text{ആരം, } r = 5 \text{ cm}$$

$$\pi \times 5 \times l = 30$$

$$l = 30 / 5$$

$$= 6 \text{ cm}$$

$$\therefore \text{ശരിയായ ഉത്തരം} = \mathbf{6 \text{ cm}}$$

[Back](#)

$$13. \quad O \text{ യിൽ നിന്ന് } 5 \text{ cm} \text{ അകലെയുള്ള ഞാനാണ് } AB.$$

$$OB = 13 \text{ cm}$$

$$OM = 5 \text{ cm}$$

$$MB = \sqrt{OB^2 - OM^2}$$

$$= \sqrt{169 - 25}$$

$$= \sqrt{144}$$

$$= 12 \text{ cm}$$

$$\therefore AB = 2 \times MB$$

Back

$$= 2 \times 12$$

$$= 24\text{cm}$$

∴ ഞാണിന്റെ നീളം = **24cm**

14. 10, 8, 17, x ഇവയുടെ മാധ്യം 11 ആണെന്ന് തന്നിട്ടുണ്ട്.

$$\text{മാധ്യം} = \frac{\text{പ്രാപ്താങ്കങ്ങളുടെ തുക}}{\text{പ്രാപ്താങ്കങ്ങളുടെ എണ്ണം}}$$

$$11 = \frac{10 + 8 + 17 + x}{4}$$

$$= \frac{35 + x}{4}$$

$$44 = 35 + x$$

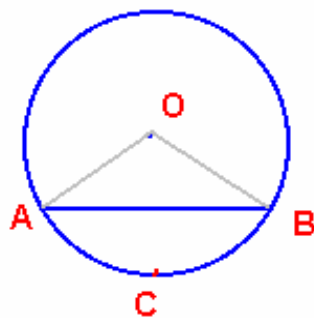
$$\therefore x = 44 - 35$$

$$= 9$$

Back

15. ചാപം  $\text{ACB} = \angle \text{AOB}$  യുടെ അന്തഃഖണ്ഡ ചാപം

$$= \angle \text{AOB}$$



ഞാണിന്റെ നീളം = ആരം എന്ന് തന്നിട്ടുണ്ട് വൃത്തത്തിന്റെ ആരങ്ങളാണ് AO, OB.

$$\text{AB} = \text{AO} = \text{OB}$$

അതായത് ത്രികോണം AOB ഒരു സമജൂതരികോണമാണ്

Back

$$\therefore \angle AOB = 60^\circ$$

[Back](#)

$$\therefore \angle \text{ചാപം } \mathbf{ACB} = 60^\circ$$

16. ഒരു മട്ടത്രികോണത്തിന്റെ പരിവൃത്തകേന്ദ്രം എല്ലായ്പ്പോഴും കർണ്ണത്തിന്റെ മധ്യബിന്ദുവായിരിക്കും.

ചെറിയ വശങ്ങൾ 8 cm, 6 cm ഇവയാണെന്ന് തന്നിട്ടുണ്ട്.

$$\begin{aligned} \therefore \text{കർണ്ണം} &= \sqrt{8^2 + 6^2} \\ &= \sqrt{64 + 36} \\ &= \sqrt{100} \\ &= 10 \text{ cm} \end{aligned}$$

$$\begin{aligned} \therefore \text{പരിവൃത്തത്തിന്റെ ആരം} &= 10/2 \\ &= 5 \text{ cm.} \end{aligned}$$

17. പൈപ്പിന്റെ നീളം,  $l = 10 \text{ cm}$

$$\text{ബാഹ്യ ചുറ്റളവ്} = 8 \text{ cm}$$

[Back](#)

$$\begin{aligned} \text{ബാഹ്യവക്രമുഖവിസ്തീർണ്ണം} &= \text{ബാഹ്യചുറ്റളവ്} \times \text{നീളം} \\ &= 8 \times 10 \\ &= 80 \text{ cm}^2 \end{aligned}$$

18. O കേന്ദ്രമായവൃത്തത്തിലെ ഞാനാണ് AB.

$$OX \perp AB. \text{ എന്ന് തന്നിട്ടുണ്ട്.}$$

വൃത്തകേന്ദ്രത്തിൽനിന്നും ഞാനിലേക്കുള്ള ലംബം ഞാനിനെ സമഭാഗം ചെയ്യും.

$$AX = XB = \frac{AB}{2}$$

$$AB = 18 \text{ cm.}$$

$$\therefore AX = 18/2$$

$$= 9 \text{ cm}$$

- 19.

$$\text{Cot } \theta = \frac{\text{Cos } \theta}{\text{Sin } \theta}$$

[Back](#)

[Back](#)

$$\cos \theta = \sin ( 90 - \theta )$$

$$\cos 75 = \cos ( 90 - 15 )$$

$$= \sin 15$$

$$\frac{\cos 15}{\cos 75} = \frac{\cos 15}{\sin 15}$$

$$= \cot 15$$

20. വൃത്തസ്തൂപികയുടെ വ്യാസം =  $( 1/3 ) \Pi R^2 h$

R = ആരം

h = ഉന്നതി.

വ്യാസം തുല്യമാണെന്ന് തന്നിട്ടുണ്ട്.  $\therefore$  ആരവും തുല്യമായിരിക്കും.

$\therefore$  വ്യാപ്തങ്ങളുടെ അംശബന്ധം = **3 : 1**

21.  $\angle ACB = 180 - ( \angle BAC + \angle ABC )$

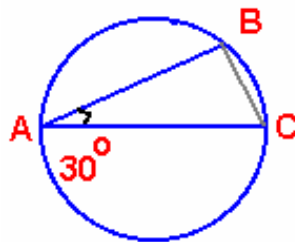
$$\angle BAC = 30^\circ$$

$$\angle ABC = 90. \text{ (അർദ്ധവൃത്തത്തിലെ കോൺ)}$$

$$\angle ACB = 180 - (30 + 90)$$

$$= 60^\circ.$$

[Back](#)



$$\therefore \text{ചാപം } AB = 60^\circ \times 2$$

$$= 120 \text{ (അന്തഃഖണ്ഡചാപം = 2 \times അന്തർലിഖിതകോൺ).}$$

$$\therefore \text{ചാപം } BCA = 360^\circ - \text{ചാപം } AB$$

$$= 360 - 120$$

$$= 240^\circ$$

[Back](#)

[Back](#)

22. അർദ്ധഗോളത്തിന്റെ ഉപരിതലവിസ്തീർണ്ണം =  $108 \pi \text{ cm}^3$

അർദ്ധഗോളത്തിന്റെ ആരം  $r$ , ആയാൽ.

$$\text{ഉപരിതലവിസ്തീർണ്ണം} = 3 \pi r^2$$

$$\therefore 3 \pi r^2 = 108 \pi$$

$$3r^2 = 108$$

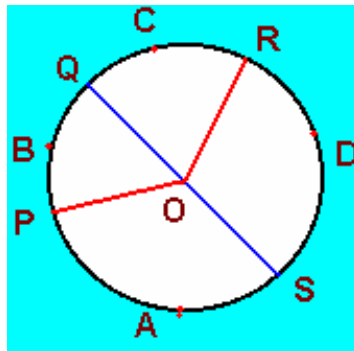
$$r^2 = 108 / 3$$

$$= 36$$

$$\therefore r = \sqrt{36}$$

$$= 6 \text{ cm}$$

23.



$$\angle POQ = 80^\circ$$

[Back](#)

$$\angle POR = 140^\circ$$

$$\angle ROS = 75^\circ \text{ എന്ന് തന്നിട്ടുണ്ട്.}$$

$$\text{ചാപം } QCR = \angle QOR$$

$$= \angle POR - \angle POQ$$

$$= 140^\circ - 80^\circ$$

$$= 60^\circ.$$

$$\text{ചാപം } PSR = 360^\circ - \angle POR$$

$$= 360^\circ - 140$$

[Back](#)

[Back](#)

$$= 220^\circ$$

$$\text{ചാപം PAS} = \angle \text{POS}$$

$$= \text{ചാപം PSR} - \text{ചാപം RDS}$$

$$= 220^\circ - \angle \text{ROS}$$

$$= 220^\circ - 75^\circ$$

$$= 145^\circ$$

24.  $\text{Cos} ( 90 - A ) = \text{Sin} A$

$\text{Sin} ( 90 - A ) = \text{Cos} A$  എന്ന് നമുക്കറിയാം.

$$\begin{aligned} \therefore \frac{\text{Cos} ( 90 - A )}{\text{Sin} ( 90 - A )} \div \text{Tan} A &= \frac{\text{Sin} A}{\text{Cos} A} \div \text{Tan} A \\ &= \text{Tan} A \div \text{Tan} A \\ &= 1 \end{aligned}$$

25. വൃത്തസ്തുപികയുടെ ആരം,  $r = 20 \text{ cm}$

ഉന്നതി,  $h = 30 \text{ cm}$

[Back](#)

$$\text{വ്യാപ്തം} = ( 1/3 ) \Pi r^2 h$$

$$= ( 1/3 ) \Pi \times 20 \times 20 \times 30$$

$$= 4000 \Pi \text{ cm}^3.$$

26. AB ഒരു വ്യാസമാണെന്നും  $\angle \text{ABD} = 40^\circ$  ആണെന്നും തന്നിട്ടുണ്ട്.

$$\angle \text{BCS} = \angle \text{BCA} + \angle \text{DCA}.$$

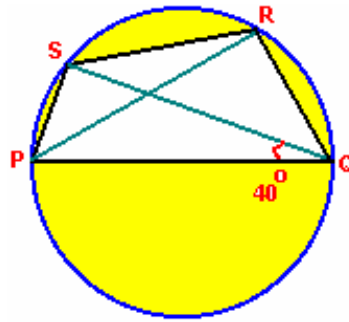
AB വ്യാസമായതിനാൽ,  $\angle \text{BCA} = 90^\circ$ . (അർദ്ധവൃത്തത്തിലെ കോൺ)

$$\angle \text{ABD} = 40^\circ$$

$\angle \text{ACD} = 40^\circ$  (ഒരേചാപത്തിൽ അന്തർലേഖനം ചെയ്തിരിക്കുന്ന കോണുകൾ തുല്യമായിരിക്കും)

[Back](#)

[Back](#)

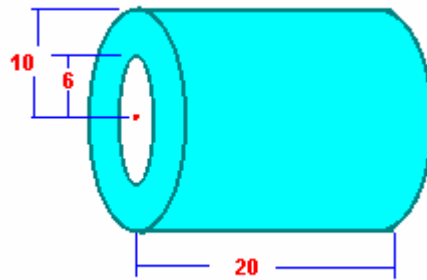


$$\angle BCD = \angle BCA + \angle DCA.$$

$$= 90^\circ + 40^\circ$$

$$= 130^\circ$$

27.



[Back](#)

പൈപ്പിന്റെ ബാഹ്യആരം,  $R = 10 \text{ cm}$

ആന്തര ആരം,  $r = 6 \text{ cm}$ .

നീളം,  $l = 20 \text{ cm}$ .

$$\text{വ്യാപ്തം} = \Pi (R^2 - r^2) l$$

$$= \Pi (R + r)(R - r) l$$

$$= \Pi (10 + 6)(10 - 6) \times 20$$

$$= \Pi \times 16 \times 4 \times 20$$

$$= 1280 \Pi$$

$$= 4019.2 \text{ cm}^3$$

[Back](#)

28. ക്രൂഡ് ഡെത്ത് റേറ്റ്, CDR = 13

വർഷമധ്യജനസംഖ്യ = 97,000 ഇവ തന്നിട്ടുണ്ട്.

$$\text{CDR} = \frac{\text{മരിച്ചവരുടെ എണ്ണം}}{\text{വർഷമധ്യ ജനസംഖ്യ}} \times 1000$$

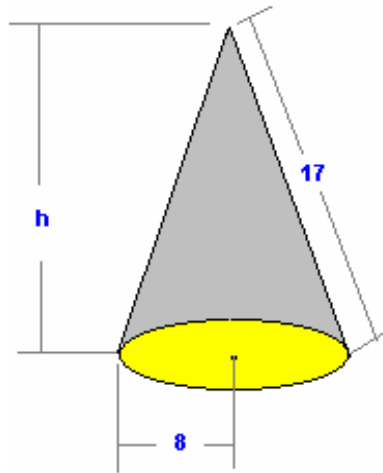
$$\text{മരിച്ചവരുടെ എണ്ണം} = \frac{\text{വർഷമധ്യജനസംഖ്യ}}{1000} \times \text{CDR}$$

$$= \frac{97,000}{1000} \times 13$$

$$= 97 \times 13$$

$$\therefore \text{മരിച്ചവരുടെ എണ്ണം} = 1261$$

29.



വൃത്തസ്തുപികയുടെ പാദത്തിന്റെ ആരം  $r = 8 \text{ cm}$

പാർശ്വോന്നതി,  $l = 17 \text{ cm}$ .

$$\begin{aligned} \text{ഉന്നതി, } h &= \sqrt{l^2 - r^2} \\ &= \sqrt{17^2 - 8^2} \\ &= 15 \text{ cm} \end{aligned}$$

വ്യാപ്തം,  $V = (1/3) \Pi r^2 h$

[Back](#)

$$= (1/3) \pi \times 8 \times 8 \times 15$$

$$= 320 \pi$$

$$= 1004.8 \text{ cm}^3$$

30. സങ്കല്പം

O കേന്ദ്രമായ വൃത്തത്തിന്റെ ബഹിർഭാഗത്തുള്ള ഒരു ബിന്ദുവാണ് P. PA,PB എന്നിവ സ്പർശരേഖാഖണ്ഡങ്ങളാണ്.

അനുമാനം

$$\angle PAO = 90$$

$$\angle PBO = 90$$

$$OA = OB$$

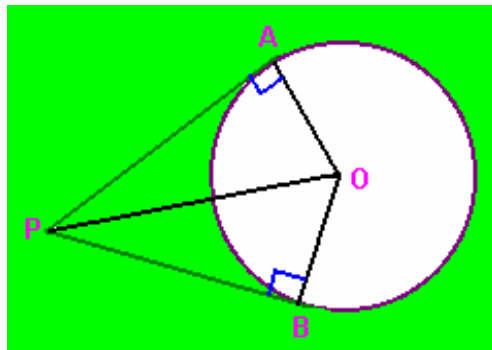
$$OP = OP$$

$$OP = OP , OA = OB$$

$$\triangle AOP \cong \triangle OBP$$

$$PA = PB$$

[Back](#)



തെളിവ്

പ്രസ്താവന

കാരണം

1.  $\angle A = \angle B$  (ഒരു സ്പർശരേഖയും സ്പർശബിന്ദു ഉൾപ്പെടുന്ന ആരവും പരസ്പരം ലംബങ്ങളാണ്.)

2.  $\triangle OAP$  ,  $\triangle OBP$  എന്നിവ മട്ടത്രികോണങ്ങളാണ്. (പ്രസ്താവന 1, മട്ടത്രികോണത്തിന്റെ നിർവ്വചനം)

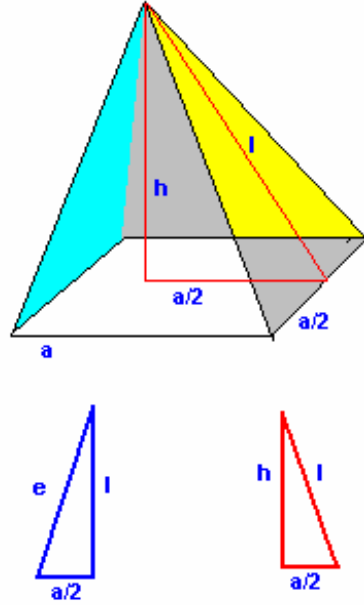
3.  $PO \cong PO$  (അനന്യസർവസമത)

[Back](#)

[Back](#)

- 4.  $OA \cong OB$  (ഒരേ വൃത്തത്തിന്റെ ആരങ്ങൾ)
- 5.  $\Delta AOP \cong \Delta OBP$  (പ്രസ്താവന 2, 3, 4 . RHS സിദ്ധാന്തം)
- 6.  $PA = PB$  (സർവ്വസമത്രികോണങ്ങളുടെ സമാന ഭാഗങ്ങളുടെ അളവുകൾ)

31.



സമചതുരസ്തുപികയുടെ പാദത്തിന്റെ

വികർണ്ണത്തിന്റെ നീളം = 22 cm.

പാർശ്വചകിന്റെ നീളം = 61cm.

സമചതുരത്തിന്റെ വികർണ്ണം =  $\sqrt{2} a$

$$\begin{aligned} \text{പാദവശം, } a &= \frac{\text{വികർണ്ണം}}{\sqrt{2}} \\ &= \frac{22}{\sqrt{2}} \end{aligned}$$

പാർശ്വചകി,  $l = \sqrt{61^2 - (a/2)^2}$

$$l^2 = 61^2 - (a/2)^2$$

$$= 61^2 - \left[ \frac{22^2}{(\sqrt{2} \times 2)^2} \right]$$

[Back](#)

[Back](#)

[Back](#)

$$\begin{aligned} &= 61^2 - \left[ \frac{22^2}{(4 \times 2)} \right] \\ &= 61^2 - (121/2) \end{aligned}$$

പാർശ്വാനതിയും ഉന്നതിയും പാദത്തിന്റെ പകുതിയും ചേർന്ന്, പാർശ്വാനതി കർണ്ണമായി വരുന്ന ഒരു മട്ടത്രികോണം ഉണ്ടാകുന്നു.

$$\begin{aligned} h^2 &= l^2 - (a/2)^2 \\ &= [61^2 - (121/2)] - (a/2)^2 \\ &= [61^2 - (121/2)] - (22/2\sqrt{2})^2 \\ &= 61^2 - (121/2) - (121/2) \\ &= \frac{(2 \times 61^2) - 121 - 121}{2} \\ &= \frac{2 \times 61^2 - 2 \times 11^2}{2} \\ &= 61^2 - 11^2 \end{aligned}$$

$$\begin{aligned} h^2 &= 61^2 - 11^2 \\ &= (61 + 11)(61 - 11) \\ &= 72 \times 50 \end{aligned}$$

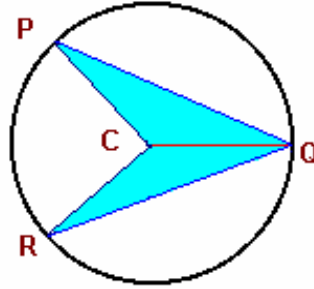
[Back](#)

$$\begin{aligned} \therefore h &= \sqrt{72 \times 50} \\ &= \sqrt{36 \times 2 \times 50} \\ &= \sqrt{36 \times 100} \\ &= 6 \times 10 \\ &= 60 \end{aligned}$$

$\therefore$  സ്തുപികയുടെ ഉന്നതി,  $h = 60$  cm

[Back](#)

32.

[Back](#)

ചിത്രത്തിൽ കാണിച്ചിരിക്കുന്നതുപോലെ QC യോജിപ്പിക്കുക.

PC = QC = ആരം ആയതിനാൽ ത്രികോണം PCQ ഒരു സമപാർശ്വത്രികോണമാണ്.

$$\angle P = \angle PQC$$

$$= 35^\circ$$

ത്രികോണം RCQ ഉം സമപാർശ്വത്രികോണമാണ്.

$$\therefore \angle R = \angle RQC$$

$$= 15^\circ$$

$$\angle PQR = \angle PQC + \angle RQC$$

$$= 35^\circ + 15^\circ$$

$$= 50^\circ$$

[Back](#)

33.

$$(\cot A - \operatorname{cosec} A)^2 = \left[ \frac{\cos A}{\sin A} - \frac{1}{\sin A} \right]^2$$

$$= \frac{(\cos A - 1)^2}{\sin^2 A}$$

$$= \frac{(\cos A - 1)(\cos A - 1)}{(1 - \cos^2 A)}$$

[Back](#)

$$\begin{aligned}
 &= \frac{(\cos A - 1)(\cos A - 1)}{(1 - \cos A)(1 + \cos A)} \\
 &= \frac{-(1 - \cos A)(\cos A - 1)}{(1 - \cos A)(1 + \cos A)} \\
 &= \frac{-(\cos A - 1)}{(1 + \cos A)} \\
 &= \frac{(1 - \cos A)}{(1 + \cos A)}
 \end{aligned}$$

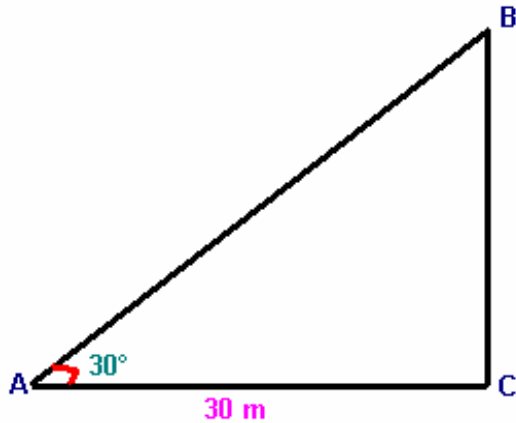
[Back](#)

34.

$$\tan \theta = \frac{\text{എതിർവശം}}{\text{സമീപവശം}} \quad \text{എന്ന് നമുക്കറിയാം,}$$

$$\tan 30 = \frac{\text{എതിർവശം}}{30}$$

[Back](#)



$$\text{എതിർവശം, } x = \tan 30 \times 30$$

$$= 0.5774 \times 30$$

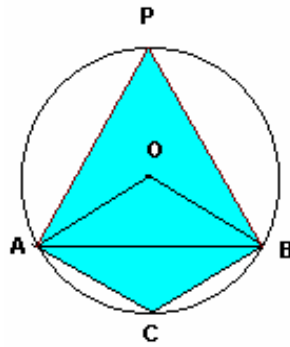
$$= 17.322$$

$\therefore$  വൃക്ഷത്തിന്റെ ഉയരം = 17.322 m.

[Back](#)

35. ചാപം  $ACB = \angle AOB$

[Back](#)



AB യോജിപ്പിക്കുക. ദീർഘചാപം AB യിൽ P അടയാളപ്പെടുത്തുക.

ചാപം ACB യുടെ അന്തർലിഖിതകോണാണ്  $\angle ADB$ .

അന്തഃഖണ്ഡ ചാപം =  $2 \times$  അന്തർലിഖിതകോൺ.

$$\text{ചാപം } ACB = 2 \times \angle APB$$

$$\therefore \angle AOB = 2 \times \angle APB$$

$\angle APB + \angle ACB = 180^\circ$  (ചക്രിയചതുർഭുജത്തിലെ എതിർശീർഷ കോണുകൾ അനുപൂരകങ്ങളായിരിക്കും)

$$\angle ACB = 180 - ( \angle ABC + \angle BAC )$$

[Back](#)

$$= 180 - ( 30 + 25 )$$

$$= 180 - 55$$

$$= 125^\circ$$

$$\angle APB = 180 - \angle ACB$$

$$= 180 - 125$$

$$= 55^\circ$$

$$\angle AOB = 2 \times \angle APB$$

$$= 2 \times 55$$

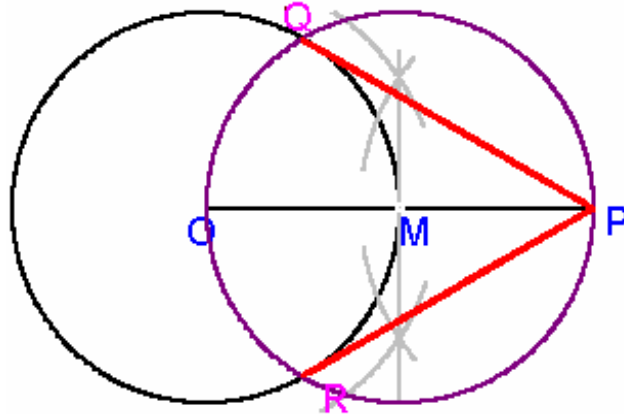
$$= 110^\circ$$

$$\text{ചാപം } ACB = \angle AOB$$

$$= 110^\circ$$

[Back](#)

36.

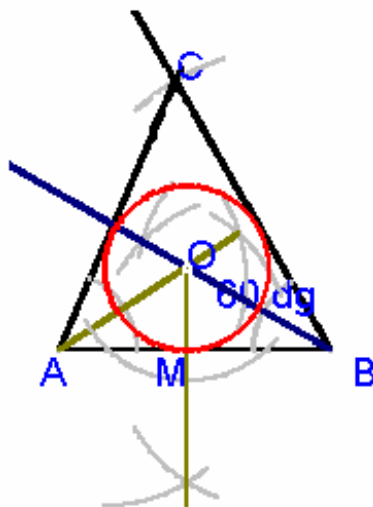


5 സെ.മീ. ആരത്തിൽ ഒരു വൃത്തം വരയ്ക്കുക. കേന്ദ്രത്തിൽ (O) നിന്നും 10 cm അകലത്തിൽ P എന്ന ബിന്ദു രേഖപ്പെടുത്തുക. OP യുടെ മധ്യലംബം വരച്ച് മധ്യബിന്ദുവിനെ M എന്ന് രേഖപ്പെടുത്തുക. M കേന്ദ്രമായും MP ആരത്തിലും മറ്റൊരു വൃത്തം വരയ്ക്കുക. രണ്ട് വൃത്തങ്ങളുടേയും സംഗമബിന്ദുക്കളെ Q, R എന്ന് അടയാളപ്പെടുത്തുക. PQ, PR രേഖപ്പെടുത്തുക. Back

ഇവയാണ് സ്പർശരേഖാഖണ്ഡങ്ങൾ.

37.  $AB = 7\text{ cm}$  ,  $B = 60^\circ$  ,  $BC = 8\text{ cm}$

7 cm നീളത്തിൽ AB വരയ്ക്കുക. B ൽ നിന്ന്  $60^\circ$  യിലും 8 cm ലും ഒരു ബിന്ദു അടയാളപ്പെടുത്തുക. ആ ബിന്ദുവിനെ C എന്ന് രേഖപ്പെടുത്തുക.



ത്രികോണം ABC യുടെ ഏതെങ്കിലും രണ്ട് കോണുകളുടെ സമഭാജികൾ വരച്ച് അവയുടെ സംഗമബിന്ദുവിന് O എന്ന് രേഖപ്പെടുത്തുക. കേന്ദ്രം O യിൽ നിന്ന് ഏതെ

[Back](#)

കിലും ഒരു ഭുജത്തിലേയ്ക്കുള്ള ലംബം വരയ്ക്കുക. ഭുജത്തെ ലംബം വെട്ടിയിടുന്ന ബിന്ദുവാണ് **M**. **O** കേന്ദ്രമായും **OM** ആരമായും ഒരു വൃത്തം വരയ്ക്കുക.

ആരം = 4.4 cm

38.

| ഉല്പന്നങ്ങൾ   | q <sub>0</sub> | p <sub>0</sub> | p <sub>1</sub> | p <sub>0</sub> q <sub>0</sub> | p <sub>1</sub> q <sub>0</sub> |
|---------------|----------------|----------------|----------------|-------------------------------|-------------------------------|
| നോട്ടുപുസ്തകം | 15             | 3.50           | 4.00           | 52.5                          | 60                            |
| പേന           | 2              | 11.25          | 12.20          | 22.5                          | 24.4                          |
| റീഫിൽ         | 20             | 1.00           | 1.25           | 20                            | 25                            |
| പെൻസിൽ        | 4              | 1.25           | 1.40           | 5                             | 5.6                           |

$$\begin{aligned} \sum p_0q_0 &= 53.5 + 22.5 + 20 + 5 \\ &= 100 \end{aligned}$$

$$\begin{aligned} \sum p_1q_0 &= 60 + 24.4 + 25 + 5.6 \\ &= 115 \end{aligned}$$

$$\frac{\sum p_1q_0}{\sum p_0q_0} \times 100 = \frac{115 \times 100}{100} = 115$$

[Back](#)

39.

| x   | f  | D    | fD   |
|-----|----|------|------|
| 210 | 2  | - 14 | - 28 |
| 218 | 8  | - 6  | - 48 |
| 220 | 9  | - 4  | - 36 |
| 224 | 13 | 0    | 0    |
| 227 | 3  | 3    | 9    |
| 230 | 5  | 6    | 30   |

$$\begin{aligned} \sum fD &= -28 + -48 + -36 + 0 + 9 + 30 \\ &= -112 + 39 \\ &= -73 \end{aligned}$$

$$\begin{aligned} \bar{x} &= A + (\sum fD / N) \\ &= 224 + (-73 / 40) \end{aligned}$$

[Back](#)

[Back](#)

$$= 224 - 1.825$$

$$= 222.175$$

40.

ആന്തരവക്രമുഖവിസ്തീർണ്ണം

$$\text{ആരം, } r = (3/2) \text{ m}$$

$$= 1.5 \text{ m}$$

$$\text{ഉന്നതി} = 80 \text{ cm}$$

$$= 0.8 \text{ m}$$

$$\text{വിസ്തീർണ്ണം} = 2 \Pi r h$$

$$= 2 \Pi \times 1.5 \times 0.8$$

$$= 2.4 \Pi \text{ m}^2$$

ബാഹ്യവക്രമുഖവിസ്തീർണ്ണം.

$$\text{ആരം, } R = r + t \text{ (ആന്തരആരം + കനം)}$$

[Back](#)

$$R = 1.5 + 0.25$$

$$= 1.75 \text{ m}$$

$$\text{ഉന്നതി, } h = 0.8 \text{ m}$$

$$\text{വിസ്തീർണ്ണം} = 2 \Pi R h$$

$$= 2 \Pi \times 1.75 \times 0.8$$

$$= 2.8 \Pi \text{ m}^2$$

മുകൾഭാഗത്തിന്റെ വിസ്തീർണ്ണം

മുകൾഭാഗം വൃത്തക്ഷേത്രമായിരിക്കും

$$\text{വിസ്തീർണ്ണം} = \Pi (R^2 - r^2)$$

$$= \Pi (R + r)(R - r)$$

$$= (1.75 + 1.5)(1.75 - 1.5)$$

$$= \Pi \times 3.25 \times 0.25$$

[Back](#)

Back

$$= 0.8125 \Pi \text{ m}^2$$

$$\text{ആകെ വിസ്തീർണ്ണം} = 24 \Pi + 2.8 \Pi + 0.8125 \Pi$$

$$= 6.0125 \Pi \text{ m}^2$$

$$= 6.0125 \times 3.14$$

$$= 18.87925 \text{ m}^2$$

സിമെന്റ് ചെയ്യുന്നതിനുള്ള നിരക്ക് = 50 / m<sup>2</sup> രൂപ.

$$\text{ആകെ ചിലവ്} = 18.87925 \times 50$$

$$= \text{Rs. } 943.9625$$

$$= \text{Rs. } 944 \text{ രൂപ.}$$

Back

-----

up